

УДК 512+517.2(07)

Задания к типовым расчетам по математике/Владим. политехн. ин-т; Соот. Н.И.Дубровин. Владимир, 1993. 64 с.

Приведены индивидуальные задания к типовым расчетам по следующим разделам: линейная алгебра и аналитическая геометрия, введение в анализ, дифференциальное исчисление функций одной переменной, функции нескольких переменных.

Предназначены для студентов первого курса всех специальностей дневной формы обучения.

Табл. 12. Ил. 4.

Печатается по решению редакционно-издательского совета Владимирского политехнического института.

Рецензент — д-р физ.-мат. наук В.В.Жиков (Владимирский государственный педагогический институт).

ПРЕДИСЛОВИЕ

Материал настоящих заданий соответствует программе первого семестра по высшей математике высшего технического учебного заведения. Каждый раздел имеет свою нумерацию; количество вариантов в задании 30. В начале разделов приведены решения некоторых наиболее трудных типовых задач, которые призваны помочь студентам справиться с типовым расчетом.

Несколько слов об обозначениях. В разд. I через $\{x, y, z\}$ обозначаются координаты вектора, в то время как координаты точки евклидова пространства обозначаются (x, y, z) . Знаки \perp и \parallel означают перпендикулярность и коллинеарность (т.е. параллельность либо совпадение) прямых и плоскостей; i, j, k — стандартный базис пространства R^3 ; \cdot и \times — знаки операций скалярного и векторного произведений. Расстояние между точками, прямой и плоскостями обозначается символом $\rho(\cdot, \cdot)$. В разд. 3 y'_x означает производную функции $y(x)$ по x , а $y(x)|_{x=x_0}$ — результат подстановки в функцию $y(x)$ числа x_0 вместо переменной x (т.е. $y(x_0)$). В последнем, четвертом разделе, символом \in обозначается принадлежность элемента множеству. Символ \Leftrightarrow заменяет слова "тогда и только тогда".

В подборе заданий принимали участие преподаватели кафедры высшей математики: разд. I, аналитическая геометрия — В.В.Брыксин, О.И.Трубина; разд. I, линейная алгебра — С.Г.Танкеев, Т.В.Дубровина, В.А.Скляренко; разд. 2 — С.В.Левизов, И.Ф.Курбыко; разд. 3 — В.П.Собакин; А.Г.Сорокина, Е.В.Филинова; разд. 4 — В.В.Евляков.

При составлении заданий и задач активно использовались также "Сборник задач по математике"/Под ред. А.В.Ефимова, Б.М.Демидовича. М.: Наука, 1981. 463 с. и "Сборник заданий по высшей математике" (Кузнецов Л.А.).

В заключение составитель выражает благодарность лаборантам кафедры высшей математики Глазовой Л.И., Ерляковой И.Б. и зав. лабораторией Блиновой В.В. за техническую работу при подготовке настоящих заданий.

РАЗДЕЛ I. АНАЛИТИЧЕСКАЯ ГЕОМЕТРИЯ И ЛИНЕЙНАЯ АЛГЕБРА

Задача 1. Найти площадь ΔABC , если $A(1, -3, 2)$, $B(4, 0, -5)$, $C(1, 0, -1)$.

Решение. Найдем координаты векторов \vec{AB} и \vec{AC} :

$$\vec{AB} = \{4-1, 0+3, -5-2\} = \{3, 3, -7\}; \vec{AC} = \{0, 3, -3\}.$$

Вычислим векторное произведение:

$$\vec{AB} \times \vec{AC} = \begin{vmatrix} i & j & k \\ 3 & 3 & -7 \\ 0 & 3 & -3 \end{vmatrix} = \begin{vmatrix} 3 & -7 \\ 3 & -3 \end{vmatrix} i - \begin{vmatrix} 3 & -7 \\ 0 & -3 \end{vmatrix} j + \begin{vmatrix} 3 & 3 \\ 0 & 3 \end{vmatrix} k =$$

$$= 12i + 9j + 9k = \{12, 9, 9\}.$$

Тогда площадь ΔABC равна

$$S = \frac{1}{2} |\vec{AB} \times \vec{AC}| = \frac{1}{2} \sqrt{12^2 + 9^2 + 9^2} = \frac{3\sqrt{35}}{2} \approx 4,437.$$

Ответ: $S \approx 4,437$.

Задача 2. Найти уравнение высоты, опущенной из точки $P(5, -3, 1)$ на плоскость $\pi: 2x + 4y - z + 4 = 0$.

Решение. Вектор $\vec{n} = \{2, 4, -1\}$ перпендикулярен плоскости π и, значит, коллинеарен искомой прямой ℓ .

Ответ: каноническое уравнение прямой ℓ :

$$\frac{x-5}{2} = \frac{y+3}{4} = \frac{z-1}{-1}.$$

Задача 3. Найти уравнение плоскости, проходящей через точки $M(1, 0, 2)$, $N(3, -1, 4)$ и перпендикулярной плоскости $\pi: 7x - 2y + 3z = 0$.

Решение. Имеем: $\vec{n} = \{7, -2, 3\} \perp \pi$ и поэтому $\vec{n} \parallel \zeta$, где ζ - искомая плоскость. Вектор $\vec{MN} = \{2, -1, 2\}$ также коллинеарен ζ . Следовательно, вектор

$$\vec{MN} \times \vec{n} = \begin{vmatrix} i & j & k \\ 2 & -1 & 2 \\ 7 & -2 & 3 \end{vmatrix} = i + 11j + 3k$$

перпендикулярен ζ . Тогда задача сводится к стандартной: найти уравнение плоскости ζ , проходящей через т. M и перпендикуляр-

ной вектору $\{1, 11, 3\}$. Получаем уравнение плоскости

$$\gamma: 1 \cdot (x-1) + 11 \cdot (y-0) + 3 \cdot (z-2) = 0.$$

Ответ: $\gamma: x + 11y + 3z - 4 = 0.$

Задача 4. Найти расстояние между скрещивающимися прямыми l_1 :

$$\frac{x-1}{3} = \frac{y+2}{0} = \frac{z}{5} \quad \text{и} \quad l_2: \frac{x+1}{4} = \frac{y-1}{1} = \frac{z-8}{3} \quad \text{и уравнение их общего перпендикуляра.}$$

Решение. Общая точка прямой $l_1 - A(3t+1, -2, 5t)$, а прямой $l_2 - B(4u-1, u+9, 3u+8)$. Здесь $t, u \in \mathbb{R}$. Находим параметры t и u так, чтобы вектор \overline{AB} был перпендикулярен l_1 и l_2 одновременно. Т.к. $\overline{AB} = \{4u-3t-2, u+11, 3u-5t+8\}$ и $\vec{n}_1 \{3, 0, 5\}$, $\vec{n}_2 \{4, 1, 3\}$ - направляющие векторы прямых l_1 и l_2 соответственно, то для u и t получаем систему двух линейных уравнений: $\overline{AB} \cdot \vec{n}_1 = \overline{AB} \cdot \vec{n}_2 = 0$ или

$$\begin{cases} (4u-3t-2) \cdot 3 + (u+11) \cdot 0 + (3u-5t+8) \cdot 5 = 0, \\ (4u-3t-2) \cdot 4 + (u+11) \cdot 1 + (3u-5t+8) \cdot 3 = 0, \end{cases}$$

откуда находим $u=0, t=1$; $A(4, -2, 5)$, $B(-1, 9, 8)$. Тогда

$\overline{AB} = \{-5, 11, 3\}$. Расстояние между прямыми l_1 и l_2 равно

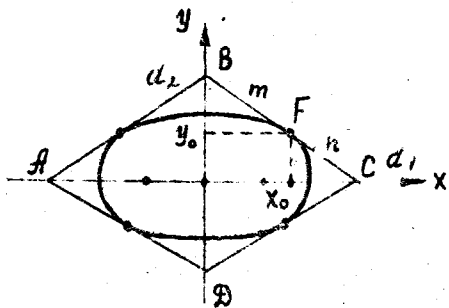
$$\rho(l_1, l_2) = \sqrt{(-5)^2 + 11^2 + 3^2} = \sqrt{155} \approx 12,45$$

и $l: \frac{x-4}{-5} = \frac{y+2}{11} = \frac{z-5}{3}$.

Ответ: $\rho(l_1, l_2) \approx 12,45$.

Каноническое уравнение общего перпендикуляра: $\frac{x-4}{-5} = \frac{y+2}{11} = \frac{z-5}{3}$.

Задача 5. В ромб с диагоналями $2d_1, 2d_2$ вписан эллипс



($d_1 \geq d_2$). Точка касания делит сторону ромба в отношении $m:n$. Найти каноническое уравнение эллипса.

Решение. Выберем систему координат, как указано на рисунке; координаты точки касания в первом квадранте обозначим x_0, y_0 . Так как $BF:FC = m:n$

по условию, то $\frac{x_0}{d_1 - x_0} = \frac{m}{n}$. Отсюда $x_0 = \frac{d_1 m}{m+n}$. Аналогично, $y_0 = \frac{d_2 n}{m+n}$. Пусть $\frac{x^2}{a^2} + \frac{y^2}{b^2} = 1$ (κ) - каноническое уравнение эллипса. Требуется найти a и b . Тангенс угла наклона прямой BC

равен $-d_2/d_1$, что совпадает с производной в точке x_0 функции $y(x)$, заданной неявно соотношением (κ). Дифференцируя (κ) по x , считая $y = y(x)$ и подставляя $x = x_0$ и $y'(x_0) = -d_2/d_1$, получим:

$$\frac{2x}{a^2} + \frac{2y}{b^2} y' = 0 \Rightarrow \frac{x_0}{a^2} - \frac{y_0}{b^2} \frac{d_2}{d_1} = 0. \quad (1)$$

Кроме того,

$$\frac{x_0^2}{a^2} + \frac{y_0^2}{b^2} = 1. \quad (2)$$

(1) и (2) - линейная система двух уравнений относительно неизвестных $1/a^2, 1/b^2$. Решая ее, получим

$$a^2 = x_0^2 + y_0 \frac{d_2}{d_1} = \frac{d_1^2 m^2}{(m+n)^2} + \frac{d_1 d_2 m n}{(m+n)^2} \frac{d_2}{d_1} = \frac{d_1^2 m^2 + d_1^2 m n}{(m+n)^2};$$

$$b^2 = y_0^2 + y_0 \frac{d_2}{d_1} = \frac{d_2^2 n^2 + d_1^2 m n}{(m+n)^2}.$$

Ответ: $a = \sqrt{d_1^2 m^2 + d_1^2 m n} / (m+n)$, $b = \sqrt{d_2^2 n^2 + d_1^2 m n} / (m+n)$.

Задача 6. Написать уравнение биссектрисы угла ABC , где $A(1, 3), B(-2, 0), C(5, -1)$.

Решение. Найдем $\overline{BA} = \{3, 3\}$, $\overline{BC} = \{7, -1\}$. Пусть вектор $\vec{u} = \{x, y\}$ коллинеарен биссектрисе угла ABC . Тогда $\cos(\vec{u}, \overline{BA}) = \cos(\vec{u}, \overline{BC})$; откуда

$$\frac{3 \cdot x + 3 \cdot y}{\sqrt{3^2 + 3^2} \sqrt{x^2 + y^2}} = \frac{7 \cdot x + (-1) \cdot y}{\sqrt{7^2 + (-1)^2} \sqrt{x^2 + y^2}}$$

или $\sqrt{5} \cdot 3(x+y) = \sqrt{2} \cdot (7x-y)$,

откуда $3Y = X$. Следовательно, в качестве направляющего вектора биссектрисы можно взять $\{3, 1\}$. Тогда $\frac{x+2}{3} = \frac{y}{1}$ - каноническое уравнение биссектрисы.

Ответ: $y = x/3 + 2/3$ - уравнение биссектрисы.

Задача 7. Решить систему линейных уравнений

$$\begin{cases} x + 2y + 3z = 4, \\ 2x + 2y - z = 3, \\ 3x + 3y + 2z = 7. \end{cases}$$

Решение. Сначала систему приводим к ступенчатому виду. Для этого первое уравнение умножаем на -2 , -3 и прибавляем ко второму и третьему уравнению соответственно:

$$\begin{cases} x+2y+3z=4, \\ -3y-7z=-5, \\ -3y-7z=-5 \end{cases} \Leftrightarrow \begin{cases} x+2y+3z=4, \\ 3y+7z=5 \end{cases}$$

Далее, вычитая из третьего уравнения второе, получаем ступенчатый вид. Число ненулевых уравнений ($=2$) меньше, чем число неизвестных ($=3$); отсюда следует, что система неопределена. Для того, чтобы записать формулу общего решения, объявим неизвестную z свободной; x и y выражаются тогда через z .

Ответ: $\begin{cases} x = 5/3 \cdot z + 4/3, \\ y = -4/3 \cdot z + 5/3, \end{cases}; z \in \mathbb{R}$

Задача 8. Найти собственные числа и собственные вектора линейного оператора пространства \mathbb{R}^3 , заданного матрицей $A = \begin{pmatrix} 3 & 2 & 0 \\ 2 & 2 & 2 \\ 0 & 2 & 1 \end{pmatrix}$.

Решение. Составляем и решаем характеристическое уравнение

$$\begin{vmatrix} 3-\lambda & 2 & 0 \\ 2 & 2-\lambda & 2 \\ 0 & 2 & 1-\lambda \end{vmatrix} = 0 \Leftrightarrow (3-\lambda)(2-\lambda)(1-\lambda) - 4(1-\lambda) + 4(3-\lambda) = 0;$$

$$\Leftrightarrow (3-\lambda)(2-\lambda)(1-\lambda) - 8(2-\lambda) = 0 \Leftrightarrow (2-\lambda)(\lambda^2 - 4\lambda - 5) = 0,$$

$$\lambda_1 = 2, \lambda_2 = -1, \lambda_3 = 5.$$

Определяем собственные векторы $\vec{p}_1, \vec{p}_2, \vec{p}_3$, соответствующие найденным характеристическим числам $\lambda_1, \lambda_2, \lambda_3$, из системы однородных уравнений $(A - \lambda_i E)\vec{p}_i = 0$ ($i=1, 2, 3$).

Получаем

1) $\lambda_1 = 2$ 2) $\lambda_2 = -1$ 3) $\lambda_3 = 5$

$$\begin{cases} x+2y=0 \\ 2x+2y=0 \\ 2y-z=0 \end{cases} \quad \begin{cases} 4x+2y=0 \\ 2x+y+2z=0 \\ 2y+2z=0 \end{cases} \quad \begin{cases} -2x+2y=0 \\ 2x-3y+2z=0 \\ 2y-4z=0 \end{cases}$$

$$x=2t, y=-t, z=-2t; \quad x=t, y=-2t, z=2t; \quad x=2t, y=2t, z=t;$$

$$\vec{p}_1 = \{2, -1, -2\}t; \quad \vec{p}_2 = \{1, -2, 2\}t; \quad \vec{p}_3 = \{2, 2, 1\}t.$$

Ответ. Собственные числа - $\lambda_1 = 2, \lambda_2 = -1, \lambda_3 = 5$; соответствующие им собственные векторы - $\vec{p}_1 = \{2, -1, -2\}t, \vec{p}_2 = \{1, -2, 2\}t, \vec{p}_3 = \{2, 2, 1\}t, (t \in \mathbb{R}, t \neq 0)$.

ЗАДАНИЯ

✓ Даны декартовы прямоугольные координаты вершин пирамиды A_1, A_2, A_3, A_4 . Найти:

- 1) угол α между ребрами A_1A_2 и A_1A_4 ;
- 2) площадь S грани $A_1A_2A_3$;
- 3) объем V пирамиды;
- 4) уравнение плоскости π грани $A_1A_2A_3$;
- 5) угол β между ребром A_1A_4 и гранью $A_1A_2A_3$;
- 6) уравнение высоты, опущенной из вершины A_4 на грань $A_1A_2A_3$.

Верш	A_1	A_2	A_3	A_4
1	2	3	4	5
I	(-2; 0; 2)	(2; 3; 14)	(-6; -3; 14)	(1; -4; 14)
2	(-1; -1; 0)	(11; 2; -4)	(11; -4; 4)	(1; 3; 3)
3	(-2; 0; 0)	(-1; 2; -2)	(-12; -2; 11)	(1; -3; 3)
4	(-2; 0; 1)	(0; 1; -1)	(-4; 2; 0)	(-1; 3; 2)
5	(2; -1; 1)	(1; 1; -1)	(4; -2; -1)	(2; 3; 2)
6	(2; 1; -2)	(4; -4; 12)	(-8; -10; 0)	(3; -3; -1)
7	(-2; -1; -2)	(-1; 1; 0)	(0; -3; -1)	(1; 0; -3)
8	(0; 1; 1)	(2; 0; -1)	(2; -9; -10)	(2; -2; 6)
9	(-2; 0; 2)	(-4; -1; 4)	(0; -2; 3)	(0; 5; 5)
10	(-2; 2; 0)	(12; 4; 5)	(-4; -9; 10)	(0; -4; -2)
11	(0; 1; 1)	(2; -4; -13)	(10; 12; 3)	(3; -1; 0)
12	(1; 2; -2)	(3; 3; -4)	(2; 4; 0)	(3; -3; 2)
13	(0; -1; 2)	(12; -21; 11)	(16; -22; 14)	(-3; 0; 6)
14	(0; -1; 2)	(-1; -3; 4)	(-5; 13; 0)	(3; 4; 1)
15	(-2; 0; -2)	(-3; 2; -4)	(-7; -14; 0)	(-1; 2; 7)
16	(2; 0; -2)	(-2; 8; -3)	(9; 4; 2)	(10; 1; -8)
17	(0; -2; -2)	(-4; 10; -5)	(-12; 6; -11)	(-9; 6; 10)
18	(-2; 1; 0)	(-4; 0; -2)	(-12; -10; 2)	(-2; 2; 7)
19	(2; 2; 0)	(4; 3; 2)	(-8; -9; 2)	(2; -2; -1)
20	(2; 1; 2)	(-3; -13; 4)	(12; -1; 13)	(-1; 3; 7)
21	(-1; 1; 0)	(0; 3; 2)	(1; 2; -2)	(5; -3; -2)
22	(3; 0; 2)	(2; 3; 0)	(5; -1; 0)	(3; 4; 3)
23	(-1; 2; 0)	(1; 3; 2)	(-6; 4; -14)	(-1; 5; 3)
24	(2; 2; 1)	(4; -3; 15)	(-8; -9; 3)	(3; -2; 2)
25	(2; 0; -2)	(6; 2; -6)	(-2; 4; -4)	(-2; -10; -8)

I	2	3	4	5
26	(0; 1; 2)	(4; 3; -2)	(-4; 5; 0)	(2; 7; 4)
27	(-1; 1; 2)	(3; 3; -2)	(-5; 5; 0)	(1; 7; 4)
28	(-1; 3; 2)	(1; 4; 4)	(-6; 5; -12)	(-1; 6; 5)
29	(-1; -2; -2)	(1; -1; -4)	(0; 0; 0)	(4; -3; 4)
30	(-2; -1; -2)	(-1; 1; -4)	(-12; -3; 9)	(1; -4; 1)

2. Заданы плоскость π и точка M . Написать уравнение плоскости σ , проходящей через точку M параллельно плоскости π .

Найти расстояние ρ между плоскостями.

Вариант	π	M
I	2	3
I	$11x - 16y - 8z - 16 = 0$	(1; 1; 0)
2	$-3x - 6y + 2z - 1 = 0$	(2; 2; -1)
3	$3x + 4z + 3 = 0$	(1; -1; 1)
4	$-10x - 25y + 2z + 3 = 0$	(-2; 0; 2)
5	$9x - 2y - 6z + 6 = 0$	(2; 1; 0)
6	$-6x - 13y - 18z + 22 = 0$	(-1; 0; -1)
7	$-13x - 16y + 4z - 24 = 0$	(2; 0; 2)
8	$19x - 4y + 8z + 20 = 0$	(2; 2; -1)
9	$-18x - 3y - 14z + 24 = 0$	(0; 2; -2)
10	$-x - 4y + 8z + 18 = 0$	(-1; -2; 0)
11	$20x + 21z + 10 = 0$	(2; 2; -1)
12	$15x + 12y - 16z - 23 = 0$	(-1; -1; 0)
13	$-9x + 8y - 12z + 11 = 0$	(-2; 0; 1)
14	$-6x - 17y + 6z - 5 = 0$	(-2; 0; 2)
15	$-12x + 11y - 21z - 3 = 0$	(0; -2; 0)
16	$-8x - 12y + 9z + 9 = 0$	(-1; 0; 0)
17	$-4x - 8y + z + 6 = 0$	(-1; -1; 0)
18	$6x - 22y - 8z - 14 = 0$	(-1; 0; 1)
19	$-7x - 4y + 4z + 17 = 0$	(-2; -1; -2)
20	$13x - 4y - 16z - 5 = 0$	(2; 0; 0)
21	$x + 4y + 8z + 19 = 0$	(0; 2; 0)
22	$4x + 20y + 5z + 10 = 0$	(1; -2; 1)
23	$-3x + 14y - 18z - 19 = 0$	(-2; -2; -1)
24	$-3x - 4y - 12z + 12 = 0$	(2; 1; -2)

I	2	3
25	$x + 4y + 8z + 26 = 0$	(1; 0; 0)
26	$12x - 21y + 16z + 9 = 0$	(-1; 0; 2)
27	$20x + 9y - 12z + 9 = 0$	(2; 0; 2)
28	$16x + 12y - 21z - 13 = 0$	(-1; 0; 0)
29	$11x + 16y - 8z + 20 = 0$	(2; 0; 0)
30	$18x - y - 6z - 26 = 0$	(-1; 1; 2)

3. Написать уравнение плоскости σ , проходящей через точки M_1 и M_2 перпендикулярно заданной плоскости π .

Вариант	π	M_1	M_2
I	2	3	4
I	$-20x - 9y + 12z - 24 = 0$	(2; 2; 0)	(14; 1; 12)
2	$4x + 8y - 12z - 6 = 0$	(-2; 2; 2)	(-5; -14; 26)
3	$18x + y + 6z - 8 = 0$	(-1; 2; 0)	(-2; -16; 6)
4	$2x + 3y - 6z - 17 = 0$	(2; 1; -2)	(-4; -1; -5)
5	$x + 2y + 2z + 19 = 0$	(1; 1; 1)	(-1; 0; 3)
6	$15x - 12y - 16z + 23 = 0$	(2; 0; -1)	(5; -12; -5)
7	$-12x - 16y - 15z + 22 = 0$	(0; 2; 1)	(-11; -22; -11)
8	$6x - 6y + 17z + 16 = 0$	(-1; 1; 0)	(-2; -17; -6)
9	$15x - 12y - 16z - 8 = 0$	(0; -1; 1)	(12; 2; 5)
10	$14x - 23y - 2z + 27 = 0$	(1; -1; -2)	(-6; -3; -28)
11	$16x + 12y - 15z - 14 = 0$	(1; 0; 1)	(13; -1; 13)
12	$7x + 22y + 14z + 10 = 0$	(1; 1; -2)	(3; 15; -25)
13	$16x - 12y + 15z - 4 = 0$	(0; -1; -1)	(3; -17; -25)
14	$10x + 2y - 25z + 27 = 0$	(0; 2; 1)	(10; -23; 3)
15	$11x + 12y - 24z + 3 = 0$	(1; -1; -1)	(2; -13; -13)
16	$3x + 12y + 4z + 10 = 0$	(0; 1; 1)	(3; -11; 5)
17	$24x + 11y - 12z + 24 = 0$	(0; -2; -1)	(-12; -5; -5)
18	$2x - 2y - z - 25 = 0$	(-1; 0; -1)	(1; 1; 1)
19	$-2x - 10y - 10z + 9 = 0$	(1; 0; -2)	(2; 2; -4)
20	$6x - 6y - 7z - 8 = 0$	(0; -2; 1)	(2; 7; -5)
21	$-11x - 2y + 10z - 14 = 0$	(2; 1; 0)	(0; 2; -2)
22	$6x + 6y + 17z - 17 = 0$	(0; -2; -2)	(1; -20; 4)
23	$9x - 20y + 12z + 6 = 0$	(-2; 1; -1)	(-6; 13; -4)

I	2	3	4
24	$10x - 11y + 2z + 1 = 0$	(0; 1; -1)	(2; 0; -3)
25	$2x - y - 2z + 27 = 0$	(-1; 0; -2)	(-2; 2; -4)
26	$-10x - 11y - 2z + 7 = 0$	(-2; 1; 0)	(3; -1; -14)
27	$11x + 24y - 12z - 8 = 0$	(-1; -2; 1)	(-25; 1; -15)
28	$-24x - 3y - 16z - 25 = 0$	(-2; 0; -2)	(-1; 12; -14)
29	$12x - 15y - 16z - 8 = 0$	(0; -1; 1)	(-1; 11; -11)
30	$9x - 12y - 20z + 6 = 0$	(-2; 0; 1)	(22; 3; -15)

4. Даны прямая l и точка M .

1) Написать уравнение плоскости π , проходящей через прямую l и точку M .

2) Написать уравнение плоскости τ , проходящей через точку M перпендикулярно прямой l .

3) Написать канонические уравнения прямой h , проходящей через точку M перпендикулярно к l .

Вариант	l	M
	2	3
1	$\frac{x-2}{2} = \frac{y-1}{-1} = \frac{z-1}{2}$	(2; 0; 2)
2	$\frac{x}{4} = \frac{y}{-2} = \frac{z-1}{-4}$	(1; -1; -3)
3	$\frac{x}{25} = \frac{y+2}{-2} = \frac{z-1}{-10}$	(1; -3; 1)
4	$\frac{x+2}{2} = \frac{y+1}{10} = \frac{z-1}{11}$	(-4; 1; 2)
5	$\frac{x+2}{1} = \frac{y-2}{2} = \frac{z+1}{-2}$	(-1; 3; -1)
6	$\frac{x}{-25} = \frac{y-1}{-2} = \frac{z}{10}$	(-1; 0; 0)
7	$\frac{x+2}{1} = \frac{y-2}{-2} = \frac{z}{-2}$	(-1; 1; 0)
8	$\frac{x-2}{1} = \frac{y-2}{+2} = \frac{z}{-2}$	(3; 2; -1)
9	$\frac{x+1}{18} = \frac{y}{-1} = \frac{z}{-6}$	(0; -1; 0)

I	2	3
10	$\frac{x+2}{10} = \frac{y+1}{-11} = \frac{z+1}{-2}$	(-1; -3; -3)
11	$\frac{x+1}{-2} = \frac{y-1}{-1} = \frac{z}{-2}$	(-2; 2; -4)
12	$\frac{x+2}{1} = \frac{y}{8} = \frac{z+1}{-4}$	(-1; 1; -1)
13	$\frac{x}{2} = \frac{y-2}{-10} = \frac{z+1}{-11}$	(2; 1; -3)
14	$\frac{x}{5} = \frac{y-2}{-2} = \frac{z}{14}$	(1; 3; 0)
15	$\frac{x+2}{-2} = \frac{y+2}{-14} = \frac{z+1}{5}$	(-1; -2; 0)
16	$\frac{x+1}{2} = \frac{y-2}{-5} = \frac{z-2}{-14}$	(0; 1; -2)
17	$\frac{x-2}{-9} = \frac{y-1}{-2} = \frac{z+2}{6}$	(1; 0; -2)
18	$\frac{x+2}{9} = \frac{y}{-2} = \frac{z+2}{6}$	(-1; -1; -2)
19	$\frac{x+2}{15} = \frac{y+2}{12} = \frac{z+2}{10}$	(2; 1; -1)
20	$\frac{x+2}{8} = \frac{y-1}{-1} = \frac{z}{4}$	(-1; 0; 0)
21	$\frac{x}{-2} = \frac{y-2}{14} = \frac{z-1}{-5}$	(1; 2; 0)
22	$\frac{x-1}{12} = \frac{y+1}{3} = \frac{z+1}{4}$	(1; 0; -5)
23	$\frac{x-2}{-7} = \frac{y}{-4} = \frac{z+2}{4}$	(1; -4; -1)
24	$\frac{x}{-5} = \frac{y}{-2} = \frac{z-1}{14}$	(-1; 1; 1)
25	$\frac{x-1}{-6} = \frac{y}{18} = \frac{z}{5}$	(1; 1; -1)
26	$\frac{x-1}{2} = \frac{y+1}{-2} = \frac{z+1}{-1}$	(2; -5; 0)
27	$\frac{x}{-6} = \frac{y+2}{1} = \frac{z-2}{-18}$	(0; -1; 1)

I	2	3
28	$\frac{x+2}{-1} = \frac{y-2}{-2} = \frac{z+2}{2}$	(-3; 1; -2)
29	$\frac{x+2}{-1} = \frac{y-1}{2} = \frac{z-2}{-2}$	(-3; 1; 1)
30	$\frac{x-2}{2} = \frac{y-1}{-5} = \frac{z-2}{-14}$	(2; 0; 0)

5. Даны уравнения прямых l_1 и l_2 .

1) Убедиться в том, что прямые l_1 и l_2 скрещивающиеся.

2) Составить уравнение плоскости π , проходящей через l_1 параллельно l_2 .

3) Найти расстояние ρ между прямыми l_1 и l_2 .

4) Составить канонические уравнения общего перпендикуляра h прямых l_1 и l_2 .

Вариант	l_1	l_2
	2	3
1	$\frac{x-0}{-2} = \frac{y-2}{14} = \frac{z-1}{-5}$	$\frac{x+1}{5} = \frac{y-3}{-14} = \frac{z-6}{2}$
2	$\frac{x-1}{1} = \frac{y-2}{2} = \frac{z}{-2}$	$\frac{x+16}{-14} = \frac{y-13}{2} = \frac{z-7}{-5}$
3	$\frac{x-1}{-9} = \frac{y-2}{12} = \frac{z}{-20}$	$\frac{x+6}{12} = \frac{y-3}{-16} = \frac{z+1}{21}$
4	$\frac{x}{2} = \frac{y-1}{1} = \frac{z+1}{-2}$	$\frac{x-14}{14} = \frac{y-2}{-2} = \frac{z}{-5}$
5	$\frac{x}{10} = \frac{y-1}{2} = \frac{z+2}{25}$	$\frac{x-23}{10} = \frac{y-32}{-25} = \frac{z-15}{-2}$
6	$\frac{x-1}{4} = \frac{y}{-3} = \frac{z-1}{-12}$	$\frac{x-25}{8} = \frac{y}{-9} = \frac{z-2}{12}$
7	$\frac{x+2}{-1} = \frac{y+1}{12} = \frac{z-2}{-12}$	$\frac{x+3}{12} = \frac{y-22}{-8} = \frac{z-7}{-9}$
8	$\frac{x-1}{6} = \frac{y-2}{9} = \frac{z}{-2}$	$\frac{x-8}{6} = \frac{y-7}{-2} = \frac{z+17}{9}$

I	2	3
9	$\frac{x}{3} = \frac{y-2}{2} = \frac{z-2}{6}$	$\frac{x+13}{2} = \frac{y-12}{6} = \frac{z+3}{-3}$
10	$\frac{x-2}{2} = \frac{y}{1} = \frac{z+2}{-2}$	$\frac{x+1}{1} = \frac{y-3}{2} = \frac{z+2}{2}$
11	$\frac{x-1}{4} = \frac{y-1}{1} = \frac{z}{-8}$	$\frac{x-2}{7} = \frac{y+10}{4} = \frac{z+11}{4}$
12	$\frac{x}{2} = \frac{y+2}{-1} = \frac{z-2}{2}$	$\frac{x-1}{1} = \frac{y+1}{-2} = \frac{z+3}{-2}$
13	$\frac{x-1}{-6} = \frac{y-2}{-9} = \frac{z+1}{-2}$	$\frac{x+12}{7} = \frac{y-1}{-6} = \frac{z}{6}$
14	$\frac{x+2}{2} = \frac{y}{-3} = \frac{z+1}{-8}$	$\frac{x-9}{3} = \frac{y-1}{6} = \frac{z+6}{-2}$
15	$\frac{x-1}{1} = \frac{y-1}{12} = \frac{z+1}{12}$	$\frac{x-1}{11} = \frac{y+34}{-24} = \frac{z-2}{12}$
16	$\frac{x-1}{-8} = \frac{y-2}{-1} = \frac{z}{4}$	$\frac{x-12}{1} = \frac{y+9}{8} = \frac{z+11}{4}$
17	$\frac{x-2}{2} = \frac{y}{14} = \frac{z+2}{5}$	$\frac{x-15}{-5} = \frac{y+5}{-14} = \frac{z-5}{-2}$
18	$\frac{x-2}{2} = \frac{y-2}{2} = \frac{z+2}{-1}$	$\frac{x+7}{1} = \frac{y+1}{-2} = \frac{z+17}{-2}$
19	$\frac{x+2}{2} = \frac{y-1}{1} = \frac{z+2}{2}$	$\frac{x-10}{2} = \frac{y+11}{-5} = \frac{z-10}{14}$
20	$\frac{x+1}{1} = \frac{y-2}{-4} = \frac{z-2}{8}$	$\frac{x-4}{4} = \frac{y-9}{8} = \frac{z-13}{1}$
21	$\frac{x-2}{4} = \frac{y+1}{-1} = \frac{z}{-8}$	$\frac{x-9}{4} = \frac{y-4}{8} = \frac{z-13}{1}$
22	$\frac{x-2}{-2} = \frac{y-1}{-1} = \frac{z}{2}$	$\frac{x-15}{10} = \frac{y+12}{2} = \frac{z-11}{11}$
23	$\frac{x-1}{4} = \frac{y+1}{-12} = \frac{z}{3}$	$\frac{x-12}{-9} = \frac{y}{12} = \frac{z+7}{-8}$
24	$\frac{x+2}{4} = \frac{y}{-1} = \frac{z-2}{8}$	$\frac{x+1}{27} = \frac{y-11}{4} = \frac{z+9}{-4}$
25	$\frac{x+2}{2} = \frac{y+2}{1} = \frac{z}{2}$	$\frac{x+1}{2} = \frac{y-3}{-2} = \frac{z-1}{-1}$

I	2	3
26	$\frac{x-2}{4} = \frac{y-2}{-3} = \frac{z}{1}$	$\frac{x-1}{-4} = \frac{y-13}{-1} = \frac{z-11}{8}$
27	$\frac{x+2}{-12} = \frac{y-2}{-1} = \frac{z}{12}$	$\frac{x-3}{9} = \frac{y-1}{-12} = \frac{z-29}{8}$
28	$\frac{x+2}{4} = \frac{y-1}{-3} = \frac{z-1}{12}$	$\frac{x-17}{3} = \frac{y-6}{-4} = \frac{z}{-12}$
29	$\frac{x-1}{5} = \frac{y}{3} = \frac{z+1}{-8}$	$\frac{x-3}{8} = \frac{y-4}{9} = \frac{z-14}{4}$
30	$\frac{x}{1} = \frac{y+1}{1} = \frac{z-1}{4}$	$\frac{x-1}{-4} = \frac{y+9}{-1} = \frac{z-14}{8}$

6. В ромб с диагоналями d_1 и d_2 вписан эллипс так, что больший из диаметров эллипса лежит на большей из диагоналей ромба. Сторона ромба в точке касания с эллипсом делится в отношении $n:m$.

Вычислить:

- 1) координаты фокусов эллипса;
- 2) полуоси эллипса;
- 3) эксцентриситет эллипса;
- 4) длины фокальных радиусов, проведенных в точку касания;
- 5) с точностью до 1 градуса угол между указанными фокальными радиусами;

6) координаты точки касания в I-м квадранте.

Написать уравнения прямых, проходящих через указанную точку касания и фокус эллипса.

Вариант	n	m	d ₁	d ₂	Вариант	n	m	d ₁	d ₂	Вариант	n	m	d ₁	d ₂
I	2	3	4	5	I	2	3	4	5	I	2	3	4	5
1	1	7	80	16	8	1	4	70	10	15	1	7	80	16
2	5	4	36	18	9	5	3	80	48	16	1	15	128	32
3	2	3	20	10	10	9	11	160	120	17	2	7	72	18
4	1	3	16	8	11	1	1	12	4	18	5	4	90	18
5	1	8	54	18	12	1	4	30	10	19	2	3	80	10
6	2	7	36	18	13	1	9	140	20	20	5	11	64	32
7	8	1	90	36	14	4	5	54	36	21	1	7	48	16

I	2	3	4	5	I	2	3	4	5	I	2	3	4	5
22	5	11	96	64	25	16	9	250	200	28	4	1	70	40
23	2	3	40	30	26	1	1	36	28	29	5	13	180	108
24	1	3	56	32	27	2	7	144	18	30	4	1	90	20

7. Даны координаты вершин четырехугольника (X_A; Y_A), (X_B; Y_B), (X_C; Y_C), (X_D; Y_D).

1) Проверить без построения чертежа, что четырехугольник выпуклый.

2) В каком отношении диагонали делятся в точке пересечения?

Вариант	X _A	Y _A	X _B	Y _B	X _C	Y _C	X _D	Y _D
I	2	3	4	5	6	7	8	9
1	5	-1	1	-1	2	5	22	13
2	17	6	0	-3	-16	-5	-4	9
3	-1	7	-14	7	17	-17	14	0
4	-1	23	12	5	6	-5	-12	-1
5	0	-3	-10	-5	-9	6	0	5
6	-1	9	-9	15	-5	-3	-2	1
7	2	8	8	0	-7	-10	-16	-8
8	-1	2	15	-5	-11	-3	-18	6
9	-3	-10	6	-13	5	-2	-1	8
10	-2	-6	2	-4	4	12	-6	12
11	-2	3	11	16	2	-9	-16	-20
12	-12	-8	-5	1	12	0	5	-9
13	-6	-12	11	-10	2	4	-16	8
14	-6	-14	12	-10	1	0	-15	8
15	-4	1	-4	-6	2	-5	20	12
16	4	3	-3	4	-4	-5	5	-4
17	3	-5	-11	-17	0	4	13	19
18	-9	-1	-1	8	27	-10	7	-16
19	3	13	10	-3	-6	-5	-10	7
20	6	8	2	8	-5	-14	6	-28
21	0	1	2	-15	-21	-6	-5	6
22	6	4	20	-7	-4	-6	-24	4
23	13	13	3	-2	-20	-9	-5	6
24	-10	0	1	7	6	-8	-8	-11

1	2	3	4	5	6	7	8	9
25	-2	-2	-6	4	4	4	18	-12
26	-12	-19	3	-14	10	14	-5	2
27	-10	-3	-3	10	18	4	4	-4
28	-10	2	-7	-4	8	-7	0	3
29	-1	12	-5	1	-10	-24	-2	-2
30	2	-1	1	2	8	5	19	-4

8. Дана гипербола $y = (ax+b)/(cx+d)$.

1) Построить график;

2) привести уравнение к каноническому виду и вычислить параметры гиперболы;

3) найти координаты фокусов в исходной системе координат.

Вариант	a	b	c	d	Вариант	a	b	c	d	Вариант	a	b	c	d
I	8	-38	I	-5	II	8	-54	I	-7	2I	-3	14	I	6
2	-8	80	I	-9	I2	-9	27	I	-1	22	-6	-4	I	6
3	2	34	I	8	I3	-7	-24	I	6	23	-8	72	I	-8
4	7	-54	I	-8	I4	-3	35	I	-1	24	-4	38	I	-5
5	-5	-17	I	7	I5	2	48	I	8	25	4	-18	I	-9
6	2	4	I	1	I6	-5	17	I	3	26	-2	-8	I	5
7	-2	26	I	-4	I7	-4	-4	I	3	27	-8	42	I	-5
8	-3	53	I	-7	I8	-9	44	I	-4	28	7	30	I	4
9	-8	18	I	-2	I9	8	42	I	3	29	8	-54	I	-9
10	-6	-22	I	4	20	-3	39	I	-7	30	-4	20	I	-3

9. Дана парабола $y = ax^2 + bx + c$. Найди координаты фокуса и указать систему координат, в которой уравнение параболы имеет канонический вид.

Вариант	a	b	c	Вариант	a	b	c	Вариант	a	b	c
I	2,5	5,0	4,5	II	-1,5	-1,5	3,0	2I	0,5	2,5	3,0
2	1,0	-3,0	2,0	I2	2,5	-2,5	-5,0	22	-1,0	-4,0	-9,0
3	-1,5	-3,0	-2,5	I3	0,5	-3,5	5,0	23	-0,5	-2,0	-6,0
4	-0,5	2,0	6,0	I4	1,0	4,0	6,0	24	-1,0	5,0	-4,0
5	0,5	-4,0	8,0	I5	-1,0	-2,0	-6,0	25	2,5	-5,0	5,5
6	2,0	6,0	4,0	I6	-0,5	1,0	-3,5	26	0,5	-0,5	-6,0
7	-0,5	-2,0	-0,5	I7	-1,0	2,0	-2,0	27	-2,5	-5,0	-3,5
8	-1,0	2,0	8,0	I8	0,5	-2,0	3,0	28	0,5	3,0	4,0
9	-0,5	1,0	7,5	I9	1,0	-4,0	-5,0	29	0,5	-2,0	5,0
10	1,0	4,0	3,0	20	-2,0	-8,0	-6,0	30	-0,5	1,0	-5,5

10. Даны три точки $(X_A; Y_A)$, $(X_B; Y_B)$, $(X_C; Y_C)$.

1) Проверить, что эти три точки не лежат на одной прямой, т.е. образуют треугольник;

2) вычислить параметры треугольника (площадь, периметр, величину угла (C) с точностью до одного градуса);

3) написать уравнение описанной окружности;

4) написать уравнение биссектрисы угла (C) ;

5) написать уравнения двух перпендикуляров, опущенных из точек A и B на биссектрису угла (C) и вычислить расстояние между ними.

Вариант	X _A	Y _A	X _B	Y _B	X _C	Y _C	Вариант	X _A	Y _A	X _B	Y _B	X _C	Y _C
I	15	-13	7	-13	14	14	II	-15	13	-7	13	-14	14
2	24	1	18	7	12	-5	I2	-23	-2	-3	-2	-14	1
3	6	21	0	21	-1	14	I3	-4	-22	2	-22	-1	-13
4	-1	-2	-19	-2	-10	-5	I4	11	6	17	0	3	-2
5	1	-3	-17	9	-10	8	I5	-22	8	-16	2	-10	14
6	1	-8	7	-2	13	-4	I6	5	21	-13	9	-2	12
7	-18	2	-10	-6	14	0	I7	7	2	-9	18	-5	6
8	-4	5	-12	5	-8	7	I8	14	1	20	-5	8	-1
9	-15	14	-7	-10	-5	4	I9	15	11	21	11	14	12
10	-6	-19	0	-19	1	-12	20	-3	20	3	20	4	13

Окончание таблиц

I	2	3	4	5	6	7	I	2	3	4	5	6	7
21	-4	9	-12	-15	-2	-5	26	7	11	-3	1	1	7
22	2	-18	20	-12	6	-14	27	-16	-4	2	-10	-2	-6
23	16	16	8	16	7	13	28	-5	-19	-13	-19	-9	-11
24	-2	-5	-8	-5	-9	-6	29	3	-13	21	-1	10	-4
25	18	9	6	3	10	3	30	8	-18	0	6	10	-4

II. Решить системы линейных уравнений:

1.
$$\begin{cases} 3x + 7y - z = -2 \\ x + 4y + 5z = 3 \\ 2x - y + 3z = 8 \end{cases} ; \begin{cases} 5x - 3z = 0 \\ 2x - y + z = 10 \\ 3x + y - 4z = -10 \end{cases}$$

2.
$$\begin{cases} 4x - y + 2z = 5 \\ x + 3y - z = 2 \\ 3x + 2y + 7z = 19 \end{cases} ; \begin{cases} 8x + y + z = 19 \\ 5x - y + 2z = 16 \\ 3x + 2y - z = 3 \end{cases}$$

3.
$$\begin{cases} 5x + y - z = 14 \\ 2x - y + 4z = 10 \\ 8x + 3y - 2z = 22 \end{cases} ; \begin{cases} 3x - y + 4z = 22 \\ 4x + 2y - z = 1 \\ 10x + 7z = 45 \end{cases}$$

4.
$$\begin{cases} 5x + y - 2z = -7 \\ 3x + 7y + z = 13 \\ 2x - 3y + 4z = 0 \end{cases} ; \begin{cases} 3x + 2y + 5z = 23 \\ 2x - y + 10z = 13 \\ x + 3y - 5z = 9 \end{cases}$$

5.
$$\begin{cases} x - 2y + 4z = 4 \\ 2x + y - z = 10 \\ -x + 7y + 2z = 4 \end{cases} ; \begin{cases} 7x + 8y - z = 0 \\ 2x - 5y + 8z = 0 \\ 9x + 3y + 7z = 0 \end{cases}$$

6.
$$\begin{cases} 3x - 2y + 7z = 25 \\ x + 3y - z = -13 \\ 5x - y + 4z = 17 \end{cases} ; \begin{cases} 3x + 2y - 4z = 3 \\ x + 5y - 3z = 8 \\ 4x + 7y - 7z = 10 \end{cases}$$

7.
$$\begin{cases} 2x + 5y - 7z = 12 \\ 3x - y + 4z = 7 \\ x + 7y - 3z = 20 \end{cases} ; \begin{cases} 2x - 3y - 7z = 0 \\ 9x - 7y + z = 0 \\ -x - y - z = 0 \end{cases}$$

8.
$$\begin{cases} -x + 4y - z = 9 \\ 3x + 2y + z = -9 \\ 5x + y - 4z = -6 \end{cases} ; \begin{cases} 3x + y + 2z = 2 \\ x + 5y + 7z = -12 \\ 2x - 4y - 5z = 14 \end{cases}$$

9.
$$\begin{cases} 2x + y - 3z = -22 \\ 4x + 3y + z = 2 \\ 3x - y + 5z = 41 \end{cases} ; \begin{cases} 8x - y + z = 0 \\ 5x + 3y - z = 0 \\ 13x + 2y = 1 \end{cases}$$

10.
$$\begin{cases} 3x + 2y - 7z = 3 \\ 5x - 3y + z = 5 \\ 2x + 4y + 5z = 17 \end{cases} ; \begin{cases} 5x + z = 5 \\ 2x - 2y + 3z = 0 \\ 7x - 2y + 4z = 5 \end{cases}$$

11.
$$\begin{cases} 4x + 3y - 5z = -4 \\ 3x - 2y + 7z = -5 \\ 2x + 5y - z = 10 \end{cases} ; \begin{cases} 5x + 2y - z = 6 \\ -3x + y + 10z = 8 \\ -x + 4y + 19z = 22 \end{cases}$$

12.
$$\begin{cases} 5x - y - 3z = 0 \\ 3x + 2y - 7z = -13 \\ 2x + y + 4z = 17 \end{cases} ; \begin{cases} 9x - 6y + 5z = -11 \\ 4x - y + z = -2 \\ 13x - 7y + 6z = -12 \end{cases}$$

13.
$$\begin{cases} 4x - 2y + 5z = -7 \\ 3x + 5y - 2z = -1 \\ 2x + 3y + z = -7 \end{cases} ; \begin{cases} 2x + y + 5z = 9 \\ 7x + 3y - z = 29 \\ 3x + y - 11z = 11 \end{cases}$$

14.
$$\begin{cases} x + 5y - z = -15 \\ 3x + 2y + 4z = 8 \\ 5x - y + 2z = 17 \end{cases} ; \begin{cases} 3x + 3y + 5z = 23 \\ -2x + y + 3z = 6 \\ x + 4y + 8z = 29 \end{cases}$$

15.
$$\begin{cases} 8x - 10y + z = 24 \\ 5x + y + 3z = 3 \\ 2x + 3y - 5z = 11 \end{cases} ; \begin{cases} x + 4y - z = 5 \\ 2x - 3y + 5z = 13 \\ 4x + 5y + 3z = 23 \end{cases}$$

16.
$$\begin{cases} -5x + 4y - z = 13 \\ 2x - 3y + 5z = 13 \\ x + 4y - z = 5 \end{cases} ; \begin{cases} 2x + 3y - 5z = 11 \\ 5x + y + 3z = 3 \\ 3x - 2y + 8z = -8 \end{cases}$$

$$17. \begin{cases} 7x - 3y + 4z = -4 \\ 3x + 3y + 5z = 23 \\ -2x + y + 3z = 6 \end{cases}; \begin{cases} 5x - y + 2z = 17 \\ 3x + 2y + 4z = 8 \\ 8x + y + 6z = 25 \end{cases}$$

$$18. \begin{cases} 3x - y + 4z = 1 \\ 7x + 3y - z = 29 \\ 2x + y + 5z = 9 \end{cases}; \begin{cases} 2x + 3y + z = -7 \\ 3x - 5y - 2z = -1 \\ 5x + 8y - z = -8 \end{cases}$$

$$19. \begin{cases} 9x - 6y + 5z = -11 \\ 3x + 2y - z = 3 \\ 4x - y + z = -2 \end{cases}; \begin{cases} 2x + y + 4z = 17 \\ 3x + 2y - 7z = -13 \\ 5x + 3y - 3z = 4 \end{cases}$$

$$20. \begin{cases} 8x - 6y + 7z = 9 \\ 5x + 2y - z = 6 \\ -3x + y + 10z = 8 \end{cases}; \begin{cases} 2x + 5y - z = 10 \\ 3x - 2y + 7z = -5 \\ 8x + y + 13z = 0 \end{cases}$$

$$21. \begin{cases} 4x - 7y + 5z = -3 \\ 2x - 2y + 3z = 0 \\ 5x + z = 5 \end{cases}; \begin{cases} 2x + 4y + 5z = 0 \\ 3x - 2y + 7z = -5 \\ 8x + 19z = 0 \end{cases}$$

$$22. \begin{cases} 2x + 5y - 9z = -4 \\ 8x - y + z = 0 \\ 5x + 3y - z = 2 \end{cases}; \begin{cases} 3x - y + 5z = 0 \\ 4x + 3y + z = 0 \\ 10x + y + 11z = 0 \end{cases}$$

$$23. \begin{cases} 4x - y + 8z = -8 \\ 3x + y + 2z = 2 \\ x + 5y + 7z = -12 \end{cases}; \begin{cases} 5x + y - 4z = -6 \\ 3x + 2y + z = -9 \\ 2x - y - 5z = 3 \end{cases}$$

$$24. \begin{cases} 9x - 7y + z = 18 \\ 6x + 5y - 2z = 27 \\ 2x - 3y - 7z = 17 \end{cases}; \begin{cases} x + 7y - 3z = 20 \\ 3x - y + 4z = 7 \\ 5x + 13y - 2z = 47 \end{cases}$$

$$25. \begin{cases} 10x - y + z = 9 \\ x + 5y - 3z = 8 \\ 3x + 2y - 4z = 3 \end{cases}; \begin{cases} 5x - y + 4z = 0 \\ x + 3y - z = 0 \\ 6x + 2y + 3z = 0 \end{cases}$$

$$26. \begin{cases} 3x + 7y - 2z = 4 \\ 2x - 5y + 8z = 31 \\ 7x + 8y - z = 26 \end{cases}; \begin{cases} -x + 7y + 2z = 4 \\ 2x + y - z = 10 \\ 3x + 9y = 24 \end{cases}$$

$$27. \begin{cases} 2x - y + 10z = 13 \\ 3x + 2y + 5z = 23 \\ 9x - y + 7z = 62 \end{cases}; \begin{cases} 2x - 3y + 4z = 0 \\ 3x + 7y + z = 13 \\ 7x + y + 9z = 13 \end{cases}$$

$$28. \begin{cases} 4x + 2y - z = 1 \\ 3x - y + 4z = 22 \\ 2x + 4y - z = 1 \end{cases}; \begin{cases} 8x + 3y - 2z = 22 \\ 2x - y + 4z = 10 \\ 4x + 5y - 10z = 2 \end{cases}$$

$$29. \begin{cases} 5x - y + 2z = 16 \\ 3x + 2y - z = 3 \\ 9x - y + 4z = 30 \end{cases}; \begin{cases} x + 3y - z = 2 \\ 3x + 2y + 7z = 19 \\ x - 4y + 9z = 15 \end{cases}$$

$$30. \begin{cases} 2x - y + z = 10 \\ 3x + y - 4z = -10 \\ 4x + 3y - 3z = 0 \end{cases}; \begin{cases} 2x - y + 3z = 8 \\ x + 4y + 5z = 3 \\ 5x + 2y + 11z = 19 \end{cases}$$

12. Вычислить определитель

$$1. \begin{vmatrix} 2 & -1 & 1 & 10 \\ 3 & 1 & -4 & -10 \\ 4 & 3 & -3 & 0 \\ 2 & 1 & 0 & 1 \end{vmatrix}$$

$$2. \begin{vmatrix} 4 & 2 & -1 & 1 \\ 3 & -1 & 4 & 22 \\ 2 & 4 & -1 & 1 \\ 1 & 1 & 1 & 1 \end{vmatrix}$$

$$3. \begin{vmatrix} 3 & 7 & -2 & 4 \\ 2 & -5 & 8 & 31 \\ 7 & 8 & -1 & 26 \\ 3 & 1 & 0 & 1 \end{vmatrix}$$

$$4. \begin{vmatrix} 9 & -1 & 1 & 18 \\ 6 & 5 & -2 & 27 \\ 2 & -3 & -7 & 17 \\ 3 & 1 & 0 & -2 \end{vmatrix}$$

$$5. \begin{vmatrix} 2 & 5 & -9 & -4 \\ 8 & -1 & 1 & 0 \\ 5 & 3 & -1 & 2 \\ 0 & 1 & 2 & 2 \end{vmatrix}$$

$$6. \begin{vmatrix} 5 & -1 & 2 & 16 \\ 3 & 2 & -1 & 3 \\ 9 & -1 & 4 & 30 \\ 3 & 0 & 1 & 1 \end{vmatrix}$$

- 7. $\begin{vmatrix} 2 & -1 & 10 & 13 \\ 3 & 2 & 5 & 23 \\ 9 & -1 & 7 & 62 \\ 2 & 1 & 1 & 0 \end{vmatrix}$
- 8. $\begin{vmatrix} 10 & -1 & 1 & 9 \\ 1 & 5 & -3 & 8 \\ 3 & 2 & -4 & 3 \\ 2 & 1 & 1 & 2 \end{vmatrix}$
- 9. $\begin{vmatrix} 4 & -1 & 8 & -8 \\ 3 & 1 & 2 & 2 \\ 1 & 5 & 7 & -12 \\ 5 & 1 & -1 & 0 \end{vmatrix}$
- 10. $\begin{vmatrix} 4 & -7 & 5 & -3 \\ 2 & -2 & 3 & 0 \\ 5 & 0 & 1 & 5 \\ 2 & 2 & 0 & 3 \end{vmatrix}$
- 11. $\begin{vmatrix} 8 & -6 & 7 & 9 \\ 5 & 2 & -1 & 6 \\ -3 & 1 & 10 & 8 \\ 4 & 1 & 1 & 0 \end{vmatrix}$
- 12. $\begin{vmatrix} 3 & -1 & 4 & 1 \\ 7 & 3 & -1 & 29 \\ 2 & 1 & 5 & 9 \\ 3 & 2 & 1 & 0 \end{vmatrix}$
- 13. $\begin{vmatrix} -5 & 4 & -1 & -13 \\ 2 & -3 & 5 & 13 \\ 1 & 4 & -1 & 5 \\ 2 & 1 & 1 & 2 \end{vmatrix}$
- 14. $\begin{vmatrix} 1 & 5 & -1 & -15 \\ 3 & 2 & 4 & 8 \\ 5 & -1 & 2 & 17 \\ 2 & 1 & -1 & 2 \end{vmatrix}$

- 15. $\begin{vmatrix} 5 & -1 & -3 & 0 \\ 3 & 2 & -7 & -13 \\ 2 & 1 & 4 & 17 \\ 1 & 1 & 2 & 0 \end{vmatrix}$
- 16. $\begin{vmatrix} 3 & 2 & -7 & 3 \\ 5 & -3 & 1 & 5 \\ 2 & 4 & 5 & 17 \\ 1 & 2 & 1 & -3 \end{vmatrix}$
- 17. $\begin{vmatrix} -1 & 4 & -1 & 9 \\ 3 & 2 & 1 & -9 \\ 5 & 1 & -4 & -6 \\ 2 & 1 & 1 & 3 \end{vmatrix}$
- 18. $\begin{vmatrix} 5 & 1 & -1 & 14 \\ 2 & -1 & 4 & 10 \\ 8 & 3 & -2 & 22 \\ 1 & 0 & 1 & 0 \end{vmatrix}$
- 19. $\begin{vmatrix} 9 & -6 & 5 & -11 \\ 3 & 2 & -1 & 3 \\ 4 & -1 & 1 & -2 \\ 1 & 3 & 1 & 1 \end{vmatrix}$
- 20. $\begin{vmatrix} 7 & -3 & 4 & -4 \\ 3 & 3 & 5 & 23 \\ -2 & 1 & 3 & 6 \\ 5 & 1 & 0 & 2 \end{vmatrix}$
- 21. $\begin{vmatrix} 8 & -10 & 1 & 24 \\ 5 & 1 & 3 & 3 \\ 2 & 3 & -5 & 11 \\ 3 & 1 & 0 & 1 \end{vmatrix}$
- 22. $\begin{vmatrix} 4 & -2 & 5 & -7 \\ 3 & 5 & -2 & -1 \\ 2 & 3 & 1 & -7 \\ 1 & 3 & 1 & 0 \end{vmatrix}$

- 23. $\begin{vmatrix} 4 & 3 & -5 & -4 \\ 3 & -2 & 7 & -5 \\ 2 & 5 & -1 & 10 \\ 1 & 0 & 1 & 1 \end{vmatrix}$
- 24. $\begin{vmatrix} 2 & 1 & -3 & -22 \\ 4 & 3 & 1 & 2 \\ 3 & -1 & 5 & 41 \\ 1 & 0 & 2 & 1 \end{vmatrix}$
- 25. $\begin{vmatrix} 2 & 5 & -7 & 12 \\ 3 & -1 & 4 & 7 \\ 1 & 7 & -3 & 20 \\ 2 & 1 & -1 & 0 \end{vmatrix}$
- 26. $\begin{vmatrix} 3 & -2 & 7 & 25 \\ 1 & 3 & -1 & -13 \\ 5 & -1 & 4 & 17 \\ 2 & 1 & -1 & 1 \end{vmatrix}$

- 27. $\begin{vmatrix} 1 & -2 & 4 & 7 \\ 2 & 1 & -1 & 10 \\ -1 & 7 & 2 & 4 \\ 3 & 2 & 0 & 1 \end{vmatrix}$
- 28. $\begin{vmatrix} 4 & -1 & 2 & 5 \\ 4 & 3 & -1 & 2 \\ 3 & 2 & 7 & 19 \\ 1 & 2 & 0 & 3 \end{vmatrix}$
- 29. $\begin{vmatrix} 5 & 1 & -2 & -7 \\ 3 & 7 & 1 & 13 \\ 2 & -3 & 4 & 0 \\ 1 & 2 & 1 & 3 \end{vmatrix}$
- 30. $\begin{vmatrix} 3 & 7 & -1 & -2 \\ 1 & 4 & 5 & 3 \\ 2 & -1 & 3 & 8 \\ 2 & 1 & 2 & 1 \end{vmatrix}$

13. Найти обратную матрицу

- I. $\begin{pmatrix} 1 & 0 & -9 \\ -7 & 3 & -2 \\ 5 & 3 & 3 \end{pmatrix}$
- 2. $\begin{pmatrix} 7 & -6 & -5 \\ -2 & 0 & 1 \\ 3 & 5 & 8 \end{pmatrix}$
- 3. $\begin{pmatrix} -1 & 3 & 0 \\ 9 & 1 & -6 \\ 3 & 8 & -6 \end{pmatrix}$
- 4. $\begin{pmatrix} -3 & -4 & 6 \\ -7 & -3 & 5 \\ -4 & 8 & 7 \end{pmatrix}$
- 5. $\begin{pmatrix} -8 & 0 & 9 \\ -5 & -9 & 0 \\ 9 & 1 & -1 \end{pmatrix}$
- 6. $\begin{pmatrix} 3 & 7 & -5 \\ -4 & -2 & 0 \\ -4 & -8 & -5 \end{pmatrix}$
- 7. $\begin{pmatrix} -6 & -4 & -8 \\ 9 & 4 & 7 \\ 4 & 2 & -9 \end{pmatrix}$
- 8. $\begin{pmatrix} 2 & 4 & 8 \\ 0 & 5 & -2 \\ 4 & 0 & -3 \end{pmatrix}$
- 9. $\begin{pmatrix} 2 & 0 & 6 \\ 3 & -6 & 1 \\ 0 & 4 & -2 \end{pmatrix}$
- 10. $\begin{pmatrix} 0 & 8 & 6 \\ -2 & 2 & -6 \\ 8 & 9 & 5 \end{pmatrix}$
- II. $\begin{pmatrix} 1 & 9 & 6 \\ 4 & 5 & 0 \\ 9 & -3 & -3 \end{pmatrix}$
- 12. $\begin{pmatrix} -2 & -3 & 2 \\ 9 & 0 & 2 \\ -5 & -6 & 0 \end{pmatrix}$
- 13. $\begin{pmatrix} 1 & -5 & 9 \\ -5 & 3 & 3 \\ -4 & 7 & 6 \end{pmatrix}$
- 14. $\begin{pmatrix} -9 & -9 & 0 \\ -1 & -9 & -2 \\ 5 & -2 & 9 \end{pmatrix}$
- 15. $\begin{pmatrix} 0 & 9 & 3 \\ 7 & 6 & 7 \\ 0 & 7 & 1 \end{pmatrix}$

16. $\begin{pmatrix} 3 & -8 & -3 \\ -1 & 1 & -3 \\ 1 & -1 & -6 \end{pmatrix}$

21. $\begin{pmatrix} 9 & 8 & 9 \\ -5 & 1 & -1 \\ 6 & 8 & -7 \end{pmatrix}$

26. $\begin{pmatrix} 3 & -1 & 0 \\ -6 & 0 & -1 \\ 0 & 8 & 5 \end{pmatrix}$

17. $\begin{pmatrix} -8 & 8 & -6 \\ -7 & -6 & -7 \\ -4 & -3 & 9 \end{pmatrix}$

22. $\begin{pmatrix} -6 & 6 & 0 \\ -6 & -5 & -7 \\ 4 & 7 & -1 \end{pmatrix}$

27. $\begin{pmatrix} -4 & -5 & 5 \\ 7 & 1 & -8 \\ 2 & 4 & -6 \end{pmatrix}$

18. $\begin{pmatrix} 1 & 2 & 8 \\ 0 & 7 & -9 \\ 9 & -9 & -7 \end{pmatrix}$

23. $\begin{pmatrix} 3 & 4 & 0 \\ 7 & -2 & -7 \\ 6 & -8 & -5 \end{pmatrix}$

28. $\begin{pmatrix} 3 & -5 & -3 \\ 0 & -3 & 4 \\ 2 & 6 & 1 \end{pmatrix}$

19. $\begin{pmatrix} -8 & 0 & 1 \\ 5 & -7 & -3 \\ -6 & -1 & -4 \end{pmatrix}$

24. $\begin{pmatrix} -3 & 6 & 6 \\ -9 & 7 & -3 \\ 6 & 1 & -7 \end{pmatrix}$

29. $\begin{pmatrix} -7 & -3 & -7 \\ 9 & -6 & 4 \\ 5 & 7 & -3 \end{pmatrix}$

20. $\begin{pmatrix} 6 & 4 & 0 \\ -3 & -2 & -3 \\ 6 & -6 & 5 \end{pmatrix}$

25. $\begin{pmatrix} -6 & 5 & 8 \\ -1 & -3 & -3 \\ 9 & -8 & -8 \end{pmatrix}$

30. $\begin{pmatrix} -9 & -8 & -5 \\ -2 & 0 & 1 \\ -7 & -7 & -6 \end{pmatrix}$

14. Найти собственные числа и собственные векторы матрицы

1. $\begin{pmatrix} 4 & -2 & -1 \\ -1 & 3 & -1 \\ 1 & -2 & 2 \end{pmatrix}$

6. $\begin{pmatrix} 3 & -1 & -1 \\ 2 & 2 & -1 \\ -2 & 1 & 4 \end{pmatrix}$

11. $\begin{pmatrix} 5 & -4 & 4 \\ 2 & 1 & 2 \\ 2 & 0 & 3 \end{pmatrix}$

2. $\begin{pmatrix} 2 & -1 & 0 \\ -1 & 2 & 0 \\ 1 & -1 & 1 \end{pmatrix}$

7. $\begin{pmatrix} 2 & 0 & -1 \\ 1 & 1 & -1 \\ -1 & 0 & 2 \end{pmatrix}$

12. $\begin{pmatrix} 3 & -2 & 2 \\ 2 & -1 & 2 \\ 2 & -2 & 3 \end{pmatrix}$

3. $\begin{pmatrix} 3 & -1 & 1 \\ 0 & 2 & -1 \\ 0 & -1 & 2 \end{pmatrix}$

8. $\begin{pmatrix} 2 & 1 & 0 \\ 1 & 2 & 0 \\ -1 & 1 & 3 \end{pmatrix}$

13. $\begin{pmatrix} 3 & -2 & 2 \\ 0 & 3 & 0 \\ 0 & 2 & 1 \end{pmatrix}$

4. $\begin{pmatrix} 5 & -1 & -1 \\ 0 & 4 & -1 \\ 0 & -1 & 4 \end{pmatrix}$

9. $\begin{pmatrix} 4 & 1 & 0 \\ 1 & 4 & 0 \\ -1 & 1 & 5 \end{pmatrix}$

14. $\begin{pmatrix} 5 & -2 & 2 \\ 0 & 5 & 0 \\ 0 & 2 & 3 \end{pmatrix}$

5. $\begin{pmatrix} 6 & -2 & -1 \\ -1 & 5 & -1 \\ 1 & -2 & 4 \end{pmatrix}$

10. $\begin{pmatrix} 1 & 0 & -2 \\ 0 & 1 & 2 \\ -2 & 2 & -1 \end{pmatrix}$

15. $\begin{pmatrix} 7 & -4 & 4 \\ 2 & 3 & 2 \\ 2 & 0 & 5 \end{pmatrix}$

16. $\begin{pmatrix} 7 & -6 & 6 \\ 4 & -1 & 4 \\ 4 & -2 & 5 \end{pmatrix}$

21. $\begin{pmatrix} 5 & 0 & 0 \\ 2 & 13 & -4 \\ 3 & 3 & -3 \\ 2 & -2 & 11 \\ 3 & 3 & 3 \end{pmatrix}$

26. $\begin{pmatrix} 5 & 0 & 0 \\ 1 & 4 & -1 \\ 1 & -1 & 4 \end{pmatrix}$

17. $\begin{pmatrix} 7 & -6 & 6 \\ 2 & 3 & 2 \\ 2 & 2 & 3 \end{pmatrix}$

22. $\begin{pmatrix} 19 & 2 & -2 \\ 3 & 3 & 3 \\ 2 & 5 & -2 \\ 2 & -2 & 11 \\ 3 & 3 & 3 \end{pmatrix}$

27. $\begin{pmatrix} 6 & 1 & -1 \\ 2 & 5 & -2 \\ 1 & -1 & 4 \end{pmatrix}$

18. $\begin{pmatrix} 13 & 2 & -2 \\ 6 & 9 & -6 \\ 2 & -2 & 5 \end{pmatrix}$

23. $\begin{pmatrix} 1 & 1 & 3 \\ 1 & 1 & -3 \\ 3 & -3 & 3 \end{pmatrix}$

28. $\begin{pmatrix} -2 & -1 & 2 \\ -1 & -2 & -2 \\ 2 & -2 & 1 \end{pmatrix}$

19. $\begin{pmatrix} 7 & 2 & -2 \\ 3 & 3 & 3 \\ 4 & 5 & -2 \\ 3 & 3 & 3 \\ 0 & 0 & 1 \end{pmatrix}$

24. $\begin{pmatrix} 2 & 1 & -1 \\ 1 & 2 & -1 \\ 0 & 0 & 1 \end{pmatrix}$

29. $\begin{pmatrix} 5 & -2 & -4 \\ 3 & 3 & 3 \\ 0 & 1 & 0 \\ -2 & 2 & 7 \\ 3 & 3 & 3 \end{pmatrix}$

20. $\begin{pmatrix} 3 & 0 & 0 \\ 2 & 7 & -4 \\ 3 & 3 & 3 \\ 2 & -2 & 5 \\ 3 & 3 & 3 \end{pmatrix}$

25. $\begin{pmatrix} 3 & 0 & 0 \\ 1 & 2 & -1 \\ 1 & -1 & 2 \end{pmatrix}$

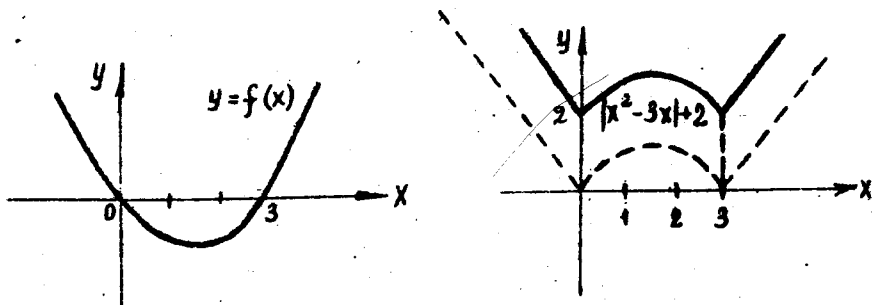
30. $\begin{pmatrix} 7 & -4 & -2 \\ -2 & 5 & -2 \\ 0 & 0 & 9 \end{pmatrix}$

РАЗДЕЛ 2. ВВЕДЕНИЕ В АНАЛИЗ

Напомним, что графики функций а) $f(-x)$, б) $-f(x)$, в) $f(x-a)$, г) $f(x)+A$, д) $f(kx)$, е) $|f(x)|$ получаются из графика функции $f(x)$ следующими геометрическими преобразованиями: а) отражением относительно оси OY , б) отражением относительно оси OX , в) сдвигом вдоль оси OX на a единиц, г) сдвигом вдоль оси OY на A единиц, д) гомотетией вдоль оси OX в $1/k$ раз ($k \neq 0$), е) отражением относительно оси OX той части графика, которая лежит ниже этой оси.

Задача 1. Используя элементарные преобразования, построить график функции $y = |x^2 - 3x + 2|$.

Решение. Сначала отстроим график параболы $f(x) = x^2 - 3x$. Затем применяем последовательно преобразования в) и г) - сдвиг по оси на 2 единицы.



Приведем некоторые арифметические формулы, которые можно доказать методом математической индукции:

$$1 + 2 + 3 + \dots + n = \frac{1}{2} \cdot n \cdot (n+1);$$

$$1 + 3 + 5 + \dots + (2n-1) = n^2;$$

$$1^2 + 2^2 + 3^2 + \dots + n^2 = \frac{1}{6} n(n+1)(2n+1);$$

$$1 + a + a^2 + \dots + a^n = \frac{a^{n+1} - 1}{a - 1}, \quad (a \neq 1).$$

Задача 2. Вычислить предел $\lim_{n \rightarrow \infty} \frac{1^2 + 2^2 + \dots + n^2}{n^3}$.

Решение. Используя третья из формул, приведенных выше, получим:

$$\frac{1^2 + 2^2 + \dots + n^2}{n^3} = \frac{1}{6} \cdot \frac{n(n+1)(2n+1)}{n^3} = \frac{1}{6} \left(1 + \frac{1}{n}\right) \left(2 + \frac{1}{n}\right).$$

Так как $\lim_{n \rightarrow \infty} \frac{1}{n} = 0$, то

$$\lim_{n \rightarrow \infty} \frac{1^2 + 2^2 + \dots + n^2}{n^3} = \lim_{n \rightarrow \infty} \frac{1}{6} \left(1 + \frac{1}{n}\right) \left(2 + \frac{1}{n}\right) =$$

$$= \frac{1}{6} \left(1 + \lim_{n \rightarrow \infty} \frac{1}{n}\right) \left(2 + \lim_{n \rightarrow \infty} \frac{1}{n}\right) = \frac{1}{6} \cdot 1 \cdot 2 = \frac{1}{3}.$$

Ответ: $1/3$.

Напомним, что порядком малости бесконечно малой величины (далее б.м.) $\beta(x)$ относительно бесконечно малой $\alpha(x)$ ($x \rightarrow a$) называется такое натуральное число n , что существует и не равен 0 предел отношения $\beta(x)/\alpha(x)^n$ при $x \rightarrow a$. Обозначим через $V_\alpha(\beta)$ порядок малости б.м. β относительно б.м. α .

Тогда

$$V_\alpha(\beta_1 \beta_2) = V_\alpha(\beta_1) + V_\alpha(\beta_2) \quad (I)$$

Для любых б.м. β_1, β_2 , для которых определены порядки малости относительно α . Действительно, если $n_1 = V_\alpha(\beta_1)$, $n_2 = V_\alpha(\beta_2)$, то

$$\lim_{x \rightarrow a} \frac{\beta_1 \beta_2}{\alpha^{n_1 + n_2}} = \lim_{x \rightarrow a} \frac{\beta_1}{\alpha^{n_1}} \cdot \lim_{x \rightarrow a} \frac{\beta_2}{\alpha^{n_2}} \neq 0,$$

что доказывает равенство (I).

Задача 3. Определить порядок малости б.м. $\beta(x) = (\cos 2x - 1) \cdot (e^x - e^{-x}) \cdot (\sin x - \operatorname{tg} x)$ относительно $\alpha(x) = x$ при $x \rightarrow 0$.

Решение. Имеем: $\cos 2x - 1 = -2 \sin^2 x$. Так как $V_x(\sin x) = 1$ согласно первому замечательному пределу, то $V_x(\cos 2x - 1) = V_x(\sin x) + V_x(\sin x) = 2$. Далее, $e^x - e^{-x} = e^{-x}(e^{2x} - 1)$ и так как $\lim_{x \rightarrow 0} (e^{2x} - 1)/x = 2$, то $V_x(e^x - e^{-x}) = 1$. Функцию $\sin x - \operatorname{tg} x$ преобразуем так: $\sin x - \operatorname{tg} x = \frac{1}{\cos x}(\cos x - 1) \sin x$. Уже

доказано, что $V_x(\cos x - 1) = 2$. Так как $\lim_{x \rightarrow 0} 1/\cos x = 1$

в силу непрерывности функции $\cos x$ и $V_x(\sin x) = 1$, то $V_x(\sin x - \operatorname{tg} x) = 2 + 1 = 3$ ввиду равенства (I). Окончательно $V_x(\beta) = V_x(\cos 2x - 1) + V_x(e^x - e^{-x}) + V_x(\sin x - \operatorname{tg} x) = 2 + 1 + 3 = 6$.

Ответ: порядок малости $\beta(x)$ относительно x ($x \rightarrow 0$) равен 6.

Задача 4. Вычислить $\lim_{x \rightarrow 0} \left(\frac{x^2 - 2x + 3}{x^2 - 3x + 2} \right)^{\frac{\sin x}{x}}$.

Решение. Обозначим $\alpha(x) = \frac{x^2 - 2x + 3}{x^2 - 3x + 2}$, $\beta(x) = \frac{\sin x}{x}$. Тогда

$$\lim_{x \rightarrow 0} \alpha(x) = \frac{0^2 - 2 \cdot 0 + 3}{0^2 - 3 \cdot 0 + 2} = \frac{3}{2}, \quad \lim_{x \rightarrow 0} \beta(x) = 1$$

в силу непрерывности функции $\alpha(x)$ и первого замечательного предела. Следовательно,

$$\lim_{x \rightarrow 0} \ln(\alpha(x)^{\beta(x)}) = \lim_{x \rightarrow 0} [\beta(x) \ln \alpha(x)] = 1 \cdot \ln \frac{3}{2} = \ln \frac{3}{2};$$

$$\lim_{x \rightarrow 0} \alpha(x)^{\beta(x)} = e^{\ln \frac{3}{2}} = \frac{3}{2},$$

где использована непрерывность функции $\ln x$ и e^x .

Ответ: $3/2$.

Задача 5. Локализовать какой-либо корень уравнения $e^x = x + 2$ с точностью до 0,1.

Решение. Локализовать корень x_0 с точностью до ε , это значит найти такое число x^* , что $x_0 \in (x^* - \varepsilon, x^* + \varepsilon)$. Тогда $x_0 \approx x^*$ с точностью ε . Заметим, что $e^x/x=0 < x+2/x=0$ и $e^x/x=2 > x+2/x=2$. Так как функции e^x и $x+2$ непрерывны, то по теореме Больцано-Коши существует корень $x_0 \in (0, 2)$ уравнения $e^x = x + 2$. Для локализации этого корня будем использовать метод дихотомии (деления пополам). Вычисления сведем в таблицу.

x	0	2	1	1,5	1,25	1,125	...
e^x	1	7,39	2,72	4,48	3,49	3,08	...
$x+2$	2	4	3	3,5	3,25	3,125	...
$e^x ? x+2$	<	>	<	>	>	<	...

В этой таблице, начиная со столбца $x=1$, выбор значения осуществляется по правилу $x = (a+b)/2$, где a, b - значения переменной x в предыдущих столбцах с условием, что неравенства в последней строке, соответствующие a и b , разного смысла и разность $|b-a|$ при этом наименьшая. Так как $x_0 \in (1,125; 1,25)$ и интервал $(1,125; 1,25)$ содержится в интервале $(1,15 - 0,1; 1,15 + 0,1)$

то $x^* = 1,15$ - искомая точка.

Ответ: один из корней уравнения $e^x = x + 2$ содержится в интервале $(1,15 - 0,1; 1,15 + 0,1)$.

ЗАДАНИЯ

I. Для заданной функции $f(x)$ и числа x_0

1) найти область допустимых значений (ОДЗ) функции $f(x)$;

2) элементарными преобразованиями (см. задачу I) построить график функции $f(x)$;

3) если x_0 принадлежит ОДЗ, то найти число δ такое, что $|f(x) - f(x_0)| < 0,1$ как только $|x - x_0| < \delta$; если же x_0 не принадлежит ОДЗ, то найти число δ такое, что $|f(x)| > 50$ как только $|x - x_0| < \delta$, $x \neq x_0$.

1. $\left| \frac{x-1}{x+1} \right|$; -1

16. $\left| \frac{x+2}{x-2} \right|$; 2

2. $\sin \left| 2x + \frac{\pi}{3} \right|$; $\frac{\pi}{6}$

17. $\left| \cos \left(\frac{\pi}{2} + \frac{\pi}{3} \right) \right|$; 0

3. $x^2 - 3|x| + 2$; 0

18. $x^2 + 5|x| - 6$; -1

4. $\left| \frac{x-1}{x+1} \right|$; -1

19. $\frac{x+2}{|x-2|}$; 2

5. $\sin \left| \frac{\pi}{2} - \frac{\pi}{6} \right|$; $\frac{\pi}{3}$

20. $\cos \left(|x| + \frac{\pi}{4} \right)$; $\frac{\pi}{4}$

6. $|x^2 - 3x + 2|$; 2

21. $x^2 - 15x - 6$; 1

7. $\frac{x-1}{|x+1|}$; -1

22. $\frac{|x|+2}{x-2}$; 3

8. $\sin(2|x| - \frac{\pi}{4})$; $\frac{\pi}{4}$

23. $\cos \left(\frac{\pi}{3} - 2|x| \right)$; $-\frac{\pi}{6}$

9. $x^2 + 13x - 2$; 1

24. $|x^2 + 5x| - 6$; -3

10. $\frac{|x|-1}{x+1}$; 1

25. $\frac{x+2}{|x|-2}$; 2

11. $|\sin(2x - \frac{\pi}{3})|$; $\frac{\pi}{6}$

26. $\sqrt{x^2}$; 0

12. $|x^2 + 3x| - 2$; -2

27. $\lg|x|$; 0

13. $\left| \frac{x+2}{x-2} \right|$; 2

28. $\left| \frac{x+1}{x-2} \right|$; 2

14. $\cos \left(\frac{\pi}{6} - \frac{\pi}{2} \right)$; $-\frac{2\sqrt{3}}{3}$

29. $e^{-|x|}$; 0

15. $|x^2 + 5x - 6|$; 0

30. $e^{-\frac{1}{x}}$; 1

2. Вычислить предел последовательности

- I. $\frac{1}{n^2} \sum_{k=1}^n (2k-1)$
2. $\frac{(2n+1)! + (2n+2)!}{(2n+3)!}$
3. $\frac{1}{n+1} \sum_{k=1}^n (2k+1) - \frac{2n+3}{2}$
4. $\frac{2^{n+1} + 3^{n+1}}{2^n + 3^n}$
5. $\frac{1}{\sqrt{9n^4+1}} \sum_{k=1}^n (k+1)$
6. $\frac{1+3+\dots+(2n-1)}{1+2+\dots+n}$
7. $\frac{1}{n+3} \sum_{k=1}^n (2k-1) - n$
8. $\frac{1+4+\dots+(3n-2)}{\sqrt{5n^4+n+1}}$
9. $\frac{(n+4)! - (n+2)!}{(n+3)!}$
10. $\frac{(3n-1)! + (3n+1)!}{(n-1) \cdot (3n)!}$
- II. $\frac{2^n - 5^{n+1}}{2^{n+1} + 5^{n+2}}$
12. $\sum_{k=1}^n \left(\frac{1}{3}\right)^k / \sum_{k=1}^n \left(\frac{1}{5}\right)^k$
13. $\frac{1}{\sqrt{n^2+n+1}} \sum_{k=0}^n (-1)^k (4k+3)$
14. $\frac{1}{n} \sum_{k=0}^{2n} (-1)^k (2k+1)$
15. $\frac{\sqrt[3]{n^3+5} - \sqrt{3n^4+2}}{1+3+5+\dots+(2n-1)}$
16. $\frac{3^n - 2^n}{3^{n-1} + 2^n}$
17. $\frac{2}{3} - \frac{1}{(n+2)^2} \sum_{k=1}^n k$
18. $\sum_{k=1}^n \frac{3^k + 2^k}{6^k}$
19. $\frac{1}{n+3} \sum_{k=0}^n (-1)^k (3k+2)$
20. $\frac{(2n+1)! + (2n+2)!}{(2n+3)! - (2n+2)!}$
21. $\frac{2+4+\dots+2n}{1+3+\dots+(2n-1)}$
22. $\sum_{k=1}^n \frac{2^k + 1}{4^k}$
23. $\frac{1}{n^2 + \sqrt{n}} \sum_{k=1}^n (5n-3)$
24. $\sum_{k=0}^n \frac{2^k + 5^k}{10^k}$
25. $\frac{1-2+3-4+\dots-2n}{\sqrt{n^3+2n+2}}$
26. $\frac{5^{n+2} + 3^{n+2}}{5^n + 3^n}$
27. $\frac{1}{n^3} \sum_{k=1}^n (2k-1)^2$
28. $\frac{1+3+5+\dots+(2n-1)}{2+4+6+\dots+2n}$
29. $\frac{1}{n^2} \sum_{k=1}^n (3k+2)$
30. $\frac{1}{n^2} \sum_{k=1}^{2n} (-1)^k \cdot k^2$

3. Дана числовая последовательность d_n .

I) Исследовать d_n на монотонность.

2) Найти $A = \lim_{n \rightarrow \infty} d_n$.

3) Указать натуральное число $N(\epsilon)$ такое, начиная с которого выполняется неравенство $|d_n - A| < \epsilon$.

- | | | | |
|----------------------------|-----------------------------|-----------------------------|-----------------------------|
| I. $\frac{3-n^2}{1+2n^2}$ | 9. $\frac{7n+4}{2n+1}$ | 17. $\frac{n+1}{7n-1}$ | 25. $\frac{9-n^3}{1+2n^3}$ |
| 2. $\frac{4n-1}{2n+1}$ | 10. $\frac{2n-5}{3n+1}$ | 18. $\frac{4n^2+1}{3n^2+2}$ | 26. $\frac{4n-3}{2n+1}$ |
| 3. $\frac{1-2n^2}{2+4n^2}$ | 11. $\frac{n+1}{1-2n}$ | 19. $\frac{1-2n^3}{n^2+3}$ | 27. $\frac{n}{3n-1}$ |
| 4. $\frac{-5n}{n+1}$ | 12. $\frac{2n+1}{3n-5}$ | 20. $\frac{3n^2}{2-n^2}$ | 28. $\frac{3n^3}{n^3-2}$ |
| 5. $\frac{4+2n}{1-3n}$ | 13. $\frac{3n-2}{2n+1}$ | 21. $\frac{3n-1}{5n+1}$ | 29. $\frac{2-3n}{5n^2+4}$ |
| 6. $\frac{5n+15}{6-n}$ | 14. $\frac{2n-1}{2-3n}$ | 22. $\frac{4n-3}{2n+1}$ | 30. $\frac{3n^3+2}{4n^3-1}$ |
| 7. $\frac{1+3n}{6-n}$ | 15. $\frac{3n-1}{2n+1}$ | 23. $\frac{5n+1}{3n-5}$ | |
| 8. $\frac{2n+1}{7n-1}$ | 16. $\frac{8-3n^3}{1+2n^3}$ | 24. $\frac{4n^3}{n^3+1}$ | |

4. Вычислить предел последовательности

- | | |
|---|--|
| I. $\left(\frac{3n^2+4n}{3n^2-2n}\right)^{2n+5}$ | 7. $\left(\frac{n-1}{n+3}\right)^{n^2}$ |
| 2. $\left(\frac{n^2+n+1}{n^2+n-1}\right)^{-n^2}$ | 8. $\left(\frac{10n-3}{10n+1}\right)^{2n+1}$ |
| 3. $\left(\frac{2n+3}{2n+1}\right)^{n+1}$ | 9. $\left(\frac{n^2+21n-7}{n^2+18n+9}\right)^{2n+1}$ |
| 4. $\left(\frac{n-1}{n+3}\right)^{n+2}$ | 10. $\left(\frac{3n^2-5n}{3n^2-5n+7}\right)^{n+1}$ |
| 5. $\left(\frac{2n^2+5n+7}{2n^2+5n+3}\right)^n$ | 11. $\left(\frac{n+4}{n+2}\right)^{2n-1}$ |
| 6. $\left(\frac{5n^2+3n-1}{5n^2+3n+3}\right)^{n^2}$ | 12. $\left(\frac{2n-1}{2n+1}\right)^{n+1}$ |

13. $\left(\frac{n^2 - 6n + 5}{n^2 - 5n + 5}\right)^{3n+2}$

22. $\left(\frac{n+3}{n+5}\right)^{n+4}$

14. $\left(\frac{7n^2 + 16n - 15}{7n^2 + 11n + 2}\right)^{n+3}$

23. $\left(\frac{13n+3}{13n-10}\right)^{n-3}$

15. $\left(\frac{6n-7}{6n+4}\right)^{3n+2}$

24. $\left(\frac{n-9}{n+5}\right)^{\frac{1}{5}+1}$

16. $\left(\frac{3n^2 - 6n + 7}{3n^2 + 20n}\right)^{-n+1}$

25. $\left(\frac{4n^2 + 4n - 1}{4n^2 + 2n + 3}\right)^{1-2n}$

17. $\left(\frac{n^2 - 3n + 6}{n^2 + 9n + 1}\right)^{\frac{n}{2}}$

26. $\left(\frac{3n-2}{3n+1}\right)^{n-4}$

18. $\left(\frac{n^2 - 10}{n+1}\right)^{3n+1}$

27. $\left(\frac{n^2 + 1}{n^2 - 3}\right)^{-n^2}$

19. $\left(\frac{3n+1}{3n-1}\right)^{2n+3}$

28. $\left(\frac{n+3}{n-1}\right)^{n+2}$

20. $\left(\frac{2n^2 + 2}{2n^2 - 1}\right)^{n^2}$

29. $\left(\frac{n+2}{n+4}\right)^{2n+1}$

21. $\left(\frac{2n^2 - 3n + 7}{2n^2 + 5n + 1}\right)^{-n^2}$

30. $\left(\frac{2n+1}{2n-1}\right)^{n+4}$

5. Вычислить предел функции

I. $\lim_{x \rightarrow -1} \frac{(x^3 - 2x - 1)(x+1)}{x^4 + 4x^2 - 5}$

7. $\lim_{x \rightarrow 0} \frac{(1+x)^3 - 1 - 3x}{x^2 + x}$

2. $\lim_{x \rightarrow -1} \frac{x^3 - 3x - 2}{x + x^2}$

8. $\lim_{x \rightarrow 1} \frac{x^2 - 2x + 1}{2x^2 - x - 1}$

3. $\lim_{x \rightarrow -3} \frac{(2x^2 - x - 1)^2}{x^3 + 4x^2 + 3x}$

9. $\lim_{x \rightarrow -1} \frac{x^3 - 3x - 2}{x^2 - x - 2}$

4. $\lim_{x \rightarrow 1} \frac{(2x^2 - x - 1)^2}{x^3 + 2x^2 - x - 2}$

10. $\lim_{x \rightarrow -1} \frac{x^6 + 5x^3 + 9x + 8}{x^3 + 4x^2 + 5x + 2}$

5. $\lim_{x \rightarrow -3} \frac{(x^2 + 2x - 3)^2}{x^3 + 4x^2 + 3x}$

11. $\lim_{x \rightarrow 2} \frac{x^3 - 5x^2 + 8x - 4}{x^3 - 3x^2 + 4}$

6. $\lim_{x \rightarrow -1} \frac{(x^3 - 2x - 1)^2}{x^4 + 2x + 1}$

12. $\lim_{x \rightarrow -1} \frac{x^3 - 3x - 2}{x^2 + 2x + 1}$

13. $\lim_{x \rightarrow 2} \frac{x^3 - 3x - 2}{x^2 - 4}$

22. $\lim_{x \rightarrow 1} \frac{x^3 + x^2 - 5x + 3}{x^3 - x^2 - x + 1}$

14. $\lim_{x \rightarrow -1} \frac{x^3 - 3x - 2}{(x^2 - x - 2)^2}$

23. $\lim_{x \rightarrow -1} \frac{x^3 + 4x^2 + 5x + 2}{x^3 - 3x - 2}$

15. $\lim_{x \rightarrow 1} \frac{x^4 - 1}{2x^4 - x^2 - 1}$

24. $\lim_{x \rightarrow 1} \frac{x^4 - 1}{2x^4 - x^2 - 1}$

16. $\lim_{x \rightarrow 1} \frac{x^3 - 2x + 1}{x^4 - 2x + 1}$

25. $\lim_{x \rightarrow -2} \frac{x^3 + 5x^2 + 8x + 4}{x^3 + 3x^2 - 4}$

17. $\lim_{x \rightarrow 1} \frac{1 - x^2}{2x^3 - x^2 - 1}$

26. $\lim_{x \rightarrow -3} \frac{x^3 + 4x^2 + 3x}{(2x^2 - x + 1)^2}$

18. $\lim_{x \rightarrow -3} \frac{x^2 + 2x - 3}{x^3 + 4x^2 + 3x}$

27. $\lim_{x \rightarrow 1} \frac{2x^4 - x^2 - 1}{x^4 - 1}$

19. $\lim_{x \rightarrow 3} \frac{x^3 - 4x^2 - 3x + 18}{x^3 - 5x^2 + 3x + 9}$

28. $\lim_{x \rightarrow -1} \frac{x^2 - x - 2}{x^3 - 3x - 2}$

20. $\lim_{x \rightarrow -3} \frac{x^3 + 7x^2 + 15x + 9}{x^3 + 8x^2 + 21x + 18}$

29. $\lim_{x \rightarrow -1} \frac{x + x^2}{x^3 - 2x - 2}$

21. $\lim_{x \rightarrow 1} \frac{x^3 - 3x + 2}{x^3 - x^2 - x + 1}$

30. $\lim_{x \rightarrow 1} \frac{2x^2 - x - 1}{x^2 - 1}$

6. Вычислять предел функции

I. $\lim_{x \rightarrow 4} \frac{\sqrt{1+2x} - 3}{\sqrt{x} - 2}$

7. $\lim_{x \rightarrow 8} \frac{\sqrt{9+2x} - 5}{\sqrt{x} - 2}$

2. $\lim_{x \rightarrow -8} \frac{\sqrt{1-x} - 3}{2 + \sqrt{x}}$

8. $\lim_{x \rightarrow 0} \frac{\sqrt{1-2x+x^2} - 1 - x}{x}$

3. $\lim_{x \rightarrow 1} \frac{\sqrt{x} - 1}{\sqrt{x^2 - 1}}$

9. $\lim_{x \rightarrow 0} \frac{\sqrt[3]{8+3x+x^2} - 2}{x^2 + x}$

4. $\lim_{x \rightarrow 3} \frac{\sqrt{x+13} - 2\sqrt{x+1}}{x^2 - 9}$

10. $\lim_{x \rightarrow 0} \frac{\sqrt[3]{27+x} - \sqrt[3]{27-x}}{x + 2\sqrt{x^3}}$

5. $\lim_{x \rightarrow -2} \frac{\sqrt{x-6} + 2}{x^3 + 8}$

11. $\lim_{x \rightarrow 1} \frac{\sqrt[3]{x} - 1}{\sqrt{x+1} - \sqrt{2x}}$

6. $\lim_{x \rightarrow 16} \frac{\sqrt[4]{x} - 2}{4 - \sqrt{x}}$

12. $\lim_{x \rightarrow 0} \frac{\sqrt{1+x} - \sqrt{1-x}}{\sqrt[3]{x+1} - \sqrt[3]{1-x}}$

13. $\lim_{x \rightarrow 2} \frac{\sqrt[3]{4x} - 2}{\sqrt{2x} - \sqrt{x+2}}$ 22. $\lim_{x \rightarrow -2} \frac{\sqrt[3]{8+x^3}}{2-\sqrt{x+6}}$
14. $\lim_{x \rightarrow 2} \frac{\sqrt[3]{x-6} + 2}{x+2}$ 23. $\lim_{x \rightarrow -8} \frac{10-x-6\sqrt{1-x}}{2+\sqrt{x}}$
15. $\lim_{x \rightarrow 4} \frac{\sqrt[3]{16x} - 4}{\sqrt{4+x} - \sqrt{2x}}$ 24. $\lim_{x \rightarrow 8} \frac{\sqrt[4]{x} - 2}{\sqrt{9+2x} - 5}$
16. $\lim_{x \rightarrow 8} \frac{\sqrt{9+2x} - 5}{\sqrt{x^2} - 4}$ 25. $\lim_{x \rightarrow 4} \frac{\sqrt{x} - 2}{\sqrt{1+2x} - 3}$
17. $\lim_{x \rightarrow 0} \frac{\sqrt[3]{1+x} + \sqrt[3]{1-x} - 1}{\sqrt{x}}$ 26. $\lim_{x \rightarrow -2} \frac{x+2}{\sqrt{x-6} + 2}$
18. $\lim_{x \rightarrow 16} \frac{\sqrt[4]{x} - 2}{(\sqrt{x} - 4)^{\frac{1}{3}}}$ 27. $\lim_{x \rightarrow 1} \frac{\sqrt{x} - 1}{1-x^2}$
19. $\lim_{x \rightarrow 4} \frac{2 - \sqrt{x}}{\sqrt{x^2 - 16}}$ 28. $\lim_{x \rightarrow 3} \frac{\sqrt[3]{9x} - 3}{\sqrt{3+x} - \sqrt{2x}}$
20. $\lim_{x \rightarrow 3} \frac{\sqrt{x+3} - 2\sqrt{x+1}}{\sqrt{x^2 - 9}}$ 29. $\lim_{x \rightarrow 1} \frac{1-x}{\sqrt{x} - 1}$
21. $\lim_{x \rightarrow 8} \frac{\sqrt{2x+9} - 5}{\sqrt{x} - 2}$ 30. $\lim_{x \rightarrow 16} \frac{4 - \sqrt{x}}{\sqrt{x} - 2}$

7. Вычислить предел выражения $[L(x)]^{\beta(x)}$ при $x \rightarrow 0$.

Вариант	$L(x)$	$\beta(x)$
I	2	3
1	$1 - \ln(1+x^3)$	$\frac{3}{x^2 \sin x}$
2	$\cos(\sqrt{x})$	$\frac{1}{x}$
3	$\frac{1+x \cdot 2^x}{1+x \cdot 3^x}$	$\frac{1}{x^2}$
4	$2 - (3)^{\arctg \sqrt{x}}$	$2 \operatorname{cosec} x$
5	$1 + \sin x (\cos x - \cos 2x)$	$\operatorname{ctg}^3 x$
6	$5 - 4 \sec x$	$(\operatorname{cosec} 3x)^2$
7	$1 - \ln(1+\sqrt[3]{x})$	$x (\operatorname{cosec} \sqrt[3]{x})^4$

I	2	3
8	$2 - \exp(\arcsin \sqrt{x})$	$\frac{3}{x}$
9	$\cos \sqrt{x}$	$\frac{x \sin x}{x}$
10	$1 + \sin^2 3x$	$(\ln \cos x)^{-1}$
11	$\operatorname{tg}(\frac{\pi}{4} - x)$	$\operatorname{ctg} x$
12	$1 - x \sin^2 x$	$(\ln(1+3x^3))^{-1}$
13	$2 - (5)^{\sin x^3}$	$\frac{\operatorname{cosec}^2 x}{x}$
14	$2 - \cos 3x$	$(\ln(1+x^2))^{-1}$
15	$2 - \exp(\sin x)$	$\operatorname{ctg} 3x$
16	$\cos x$	$(\ln(1+\sin^2 x))^{-1}$
17	$2 - \exp(x^2)$	$\operatorname{ctg}^2(\frac{\sqrt{x}}{3})$
18	$3 - 2 \cos x$	$-\operatorname{cosec}^2 x$
19	$2 - (3)^{\sin^2 x}$	$(\ln \cos x)^{-1}$
20	$2 - \cos x$	$\frac{1}{x^2}$
21	$6 - 5 \sec x$	$\operatorname{ctg}^2 x$
22	$3 - 2 \sec x$	$\operatorname{cosec}(x^3)$
23	$2 - \exp(x^2)$	$1 - \cos \sqrt{x}$
24	$1 - \ln \cos x$	$\operatorname{ctg}^2 x$
25	$1 - \sin^2 2x$	$(\operatorname{arctg} 3x)^{-2}$
26	$1 + \sin x$	$\frac{1}{x}$
27	$\cos x$	$\frac{1}{x}$
28	$\cos x$	$\frac{1}{x^2}$
29	$\frac{x^2 - 2x + 3}{x^2 - 3x + 2}$	$\frac{\sin x}{x}$
30	x^2	$\frac{2}{(x+1)}$

8. Определить порядок малости бесконечно малой величины $\beta(x)$ относительно $\alpha(x) = x$ при $x \rightarrow 0$

- | | | |
|---|---|--|
| 1. $\cos 7x - \cos 3x$ | 11. $\operatorname{tg}(5(x+2))$ | 21. $\sqrt{2+x} - \sqrt{2}$ |
| 2. $1 - \cos^3(2x)$ | 12. $\operatorname{arctg}(e^{2x} - 1)$ | 22. $\sin(2\sqrt{x+10})$ |
| 3. $\ln(1 - \operatorname{arcsin} 7x^2)$ | 13. $\sin 3x(ax^2 - 5x)$ | 23. $\operatorname{tg} x \cos(x + \frac{5\pi}{6})$ |
| 4. $1 - \sqrt{3x+1}$ | 14. $\ln(1-2x)\operatorname{arctg} 3x$ | 24. $\sin(e^{3x} - 1)$ |
| 5. $\sin^2 x - \operatorname{tg}^2 x$ | 15. $\ln(e - x^2) - 1$ | 25. $\ln(x^2 + 1)(\sqrt{x^2 + 1} - 1)$ |
| 6. $(e^{3x} - 1)(\sqrt{x+1} - 1)$ | 16. $(1 - \cos 2x)(\operatorname{tg} x - \sin x)$ | 26. $\operatorname{tg}(5(1 + \frac{x}{5})) - \ln(x+1)$ |
| 7. $\sin 3x(1 - \cos 3x)$ | 17. $7e^x - 5^x$ | 27. $\sin 3x - \sin 5x$ |
| 8. $e^x + e^{-x} - 2$ | 18. $2 - \sqrt{\cos x} - 3^x$ | 28. $(4^x - 9^x)(x + \operatorname{tg} x^2)$ |
| 9. $\ln(\operatorname{tg}(\frac{\pi}{4} - 2x))$ | 19. $e^x - e^{-x}$ | 29. $\cos 2x - \cos x$ |
| 10. $\operatorname{tg} x - \sin x$ | 20. $\sqrt{4+x^2} - 2$ | 30. $\operatorname{tg}(e^{2x} - 1)$ |

9. Локализовать с точностью до 0,1 какой-либо корень уравнения

- | | | |
|--|----------------------------------|---|
| 1. $x^3 + 2x - 8 = 0$ | 11. $x = 10 \operatorname{lg} x$ | 21. $x + \sin x = 2$ |
| 2. $x^4 - 4x + 1 = 0$ | 12. $x^2 = -\ln x$ | 22. $4x = 2^x$ |
| 3. $x = \sqrt[3]{5-x}$ | 13. $x^2 = \cos x$ | 23. $\ln x = \operatorname{arctg} x$ |
| 4. $x^2 \cdot \operatorname{arctg} x = 1$ | 14. $(x+1)^3 = 2x$ | 24. $x^3 - 5x + 1 = 0$ |
| 5. $x = 2 + \sqrt[4]{x}$ | 15. $x^5 + x + 1 = 0$ | 25. $x = 2 - \operatorname{lg} x$ |
| 6. $x^2 = \ln(x+1)$ | 16. $x^2 - 2 = e^x$ | 26. $x = \cos 2x$ |
| 7. $x = \operatorname{arctg}(\sqrt[3]{x})$ | 17. $x^3 - 2x - 5 = 0$ | 27. $x^4 - 2x = 2$ |
| 8. $x^3 + 60x - 80 = 0$ | 18. $x^4 + 2x - 24 = 0$ | 28. $x^6 - 3x^2 = 1 - x$ |
| 9. $e^{-x} = \ln x$ | 19. $x^3 - 3x + 1 = 0$ | 29. $\frac{\operatorname{tg} x}{x} = 1$ |
| 10. $e^x = 3x$ | 20. $\frac{x}{5} = \ln x$ | 30. $x^x = 10$ |

10. Исследовать точки разрыва функции и дать схематический чертеж в окрестности исследуемой точки

- | | | |
|---|---------------------------------------|---|
| 1. $(2^{\frac{x}{1-x}} - 1)^{-1}$ | 4. $\frac{\cos x - 1}{x^2}$ | 7. $(x+2)\operatorname{cosec}(x^2 - 4)$ |
| 2. $(x^2 - 1)\sin(\frac{1}{x^2 - 1})$ | 5. $\frac{1}{\operatorname{tg} x-2 }$ | 8. $[\ln(\sin x)]^{-1}$ |
| 3. $(x+1)\operatorname{arctg}(\frac{1}{x})$ | 6. $\operatorname{exp}(\sec x)$ | 9. $\frac{-x^3 + 5x^2}{(2)^{\sin x} - (2)^{\operatorname{tg} x}}$ |

- | | | |
|---|--|---|
| 10. $\sin \frac{1}{x}$ | 17. $\frac{2^{\frac{1}{x}} + 1}{2^{\frac{1}{x}} - 2}$ | 24. $(4)^{\frac{1}{3+x}}$ |
| 11. $\frac{(x+1)^2}{\sin(x+1)}$ | 18. $\frac{\operatorname{arcsin}(3x)}{\operatorname{tg}(x^2 - 1)}$ | 25. $\frac{\operatorname{arccos} x}{x^2 - 1}$ |
| 12. $\frac{3^{\frac{1}{x}} - 1}{3^{\frac{1}{2x}} - \sqrt{3}}$ | 19. $e^{-\frac{1}{x}}$ | 26. $\frac{\ln(1-x^2)}{\cos 2x - 1}$ |
| 13. $\frac{1-x-4\sin(x+4)}{\operatorname{arcsin}(16-x^2)}$ | 20. $\frac{e^x - 1}{x}$ | 27. $\operatorname{arctg}(\frac{5}{2(1-x)})$ |
| 14. $\frac{\frac{1}{x} - \frac{1}{x+1}}{\frac{1}{x-1} - \frac{1}{x}}$ | 21. $\operatorname{arctg}(\frac{11+x}{x-1})$ | 28. $\frac{1}{x^2}(\cos 3x - \cos x)$ |
| 15. $(1 - 2^{\operatorname{tg} x})^{-1}$ | 22. $\frac{1}{x} \ln(\frac{1-x}{1+x})$ | 29. $e^{-\frac{1}{x^2}}$ |
| 16. $(7)^{\frac{1}{2-x^2}}$ | 23. $(x - \frac{\pi}{2}) \operatorname{sec} x$ | 30. $[\ln(\cos x)]^{-1}$ |

РАЗДЕЛ 3. ДИФФЕРЕНЦИАЛЬНОЕ ИСЧИСЛЕНИЕ
ФУНКЦИИ ОДНОЙ ПЕРЕМЕННОЙ

Задача 1. Вычислить производную функции $y = x^{3^x} \cdot x^{\sqrt{x}}$.

Решение. Найдем сначала логарифмическую производную функции y

$$(\ln y)' = (3^x \ln x + \sqrt{x} \ln x)' = (3^x + \sqrt{x})' \ln x + \frac{3^x + \sqrt{x}}{x} = (3^x \ln 3 + \frac{1}{2\sqrt{x}}) \ln x + \frac{3^x + \sqrt{x}}{x}$$

Так как $(\ln y)' = \frac{y'}{y}$, то $y' = y \cdot (\ln y)'$.

Ответ: $y' = x^{3^x + \sqrt{x}} \left[(3^x \ln 3 + \frac{1}{2\sqrt{x}}) \ln x + \frac{3^x + \sqrt{x}}{x} \right]$.

Задача 2. Найти y''_{xx} от функции, заданной параметрически:

$$\begin{cases} x = \ln(1+t^2), \\ y = t - \operatorname{arctg} t. \end{cases}$$

Решение. Имеем:

$$y'_x = \frac{y'_t}{x'_t} = \frac{1 - \frac{1}{1+t^2}}{2t/(1+t^2)} = \frac{1+t^2-1}{2t} = \frac{t}{2};$$

$$y''_{xx} = \frac{(y'_x)'_t}{x'_t} = \frac{1/2}{2t/(1+t^2)} = \frac{1+t^2}{4t}.$$

Ответ: $y''_{xx} = (1+t^2)/4t$.

Задача 3. Вычислить приближенно с помощью дифференциала $y(1,77)$, где $y(x) = \sqrt{4x+3}$.

Решение. Рассмотрим точку $x_0 = 1,75$, в которой $y(1,75) = \sqrt{4 \cdot 1,75 + 3} = \sqrt{10} = 3$ и $\Delta x = 1,77 - 1,75$ мало. Заменяя $\Delta y = y(1,77) - y(1,75)$ на дифференциал в точке $x_0 = 1,75$ и при $\Delta x = 0,02$ получим:

$$y(1,77) \approx y(1,75) + dy = 3 + y'_x(1,75) \cdot 0,02 = 3 + \frac{2}{\sqrt{4x+3}} \Big|_{x=1,75} \cdot 0,02 = 3 + \frac{2}{3} \cdot 0,02 \approx 3,01.$$

Ответ: 3,01.

В задании 13 предлагается следующий план исследования функции с параллельным построением графика:

а) общие особенности функции - область допустимых значений, четность - нечетность, периодичность, ограниченность, положительность и т.п.;

б) точки разрыва функции и их классификация;

в) исследование функции по первой производной - участки возрастания и убывания, точки экстремума;

г) исследование функции по второй производной - участки выпуклости - вогнутости, точки перегиба;

д) асимптотическое поведение функции на $\pm \infty$.

Задача 4. Исследовать функцию $y = \ln \left| \frac{x-1}{x+1} \right|$ и построить ее график.

Решение. а) Функция $\frac{x-1}{x+1}$ не определена в точке $x=-1$. Так как функция $\ln z$ определена, только если $z > 0$, а $\left| \frac{x-1}{x+1} \right| \geq 0$, причем $\frac{x-1}{x+1} = 0$ лишь в одной точке $x=1$, то получаем еще одну особенность - $x=1$ - функции $y(x)$. Итак, ОДЗ - вся числовая ось кроме точек ± 1 .

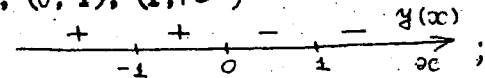
Далее

$$y(-x) = \ln \left| \frac{-x-1}{-x+1} \right| = \ln \left| \frac{x+1}{x-1} \right| = -\ln \left| \frac{x-1}{x+1} \right| = -y(x),$$

поэтому $y(x)$ - нечетная функция, а ее график симметричен относительно начала координат. Найдем точки пересечения графика функции $y(x)$ с осью Ox :

$$y(x) = 0 \Leftrightarrow \left| \frac{x-1}{x+1} \right| = 1 \Leftrightarrow \frac{x-1}{x+1} = \pm 1 \Leftrightarrow x = 0.$$

Определим знаки функции $y(x)$ в интервалах знакопостоянства $(-\infty, -1)$; $(-1, 0)$; $(0, 1)$; $(1, +\infty)$



б) Так как $\lim_{x \rightarrow -1} \left| \frac{x-1}{x+1} \right| = +\infty$ и $\ln z$ - монотонно возрастающая неограниченная функция, то $x=-1$ - вертикальная асимптота и $\lim_{x \rightarrow -1} y(x) = +\infty$. В силу нечетности $x=1$ - также вертикальная асимптота и $\lim_{x \rightarrow 1} y(x) = -\infty$.

в) Находим решения уравнения $y'(x) = 0$. Имеем:

$$\frac{x-1}{x+1} \geq 0 \Leftrightarrow x > 1 \quad \text{или} \quad x < -1 \Leftrightarrow |x| > 1.$$

Тогда $y'(x) = \frac{x+1}{x-1} \left(\frac{x-1}{x+1} \right)' = \frac{x+1}{x-1} \cdot \frac{2}{(x+1)^2} = \frac{2}{x^2-1}$.

Если же $|x| < 1$, то


$y'(x) = \frac{1+x}{1-x} \left(\frac{1-x}{1+x} \right)' = \frac{1+x}{x-1} \left(\frac{x-1}{x+1} \right)' = \frac{2}{x^2-1}$.

Следовательно, $y'(x) \neq 0$ в области допустимых значений. Знаки производной $y'(x)$, значит, и участки монотонности функции $y(x)$ будут следующими

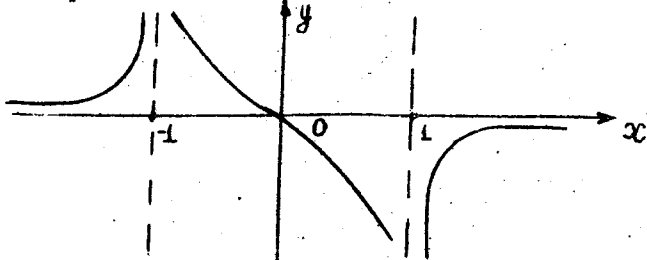


Заметим, что $y'(0) = 2$ - тангенс угла наклона касательной графика функции $y(x)$ в точке $(0, 0)$.

г) Вычисляем $y'' = \left(\frac{2}{x^2-1} \right)' = \frac{-2 \cdot 2x}{(x^2-1)^2} = -\frac{4x}{(x^2-1)^2}$ и находим решения уравнения $y''(x) = 0$. Имеем один корень: $x = 0$. Знаки y'' и участки выпуклости будут следующими:



д) Так как $\lim_{x \rightarrow \pm\infty} \left| \frac{x-1}{x+1} \right| = 1$, то $\lim_{x \rightarrow \pm\infty} y(x) = \ln 1 = 0$ и поэтому $y = 0$ - горизонтальная асимптота на $\pm\infty$.



ЗАДАНИЯ

1..Найти производную функции

1. $\sin^2 3x + \frac{\sin^2 4x}{3 \cos 6x}$

2. $\text{tg} \ln x - \frac{\sin^2 3x}{4 \cos 8x}$

3. $\cos(x^2) - \frac{\sin^2 2x}{4 \cos 4x}$

17. $\text{ctg}(x^3) - \frac{\cos^2 4x}{3 \sin 7x}$

4. $\text{tg} \sqrt{x} - \frac{\sin^2 7x}{7 \cos 10x}$

18. $\sin(x^3) + \frac{2 \cos^2 3x}{\sin 4x}$

5. $\text{ctg} \sqrt{x} + \frac{\sin^2 6x}{6 \cos 8x}$

19. $\cos \ln x - \frac{\cos^2 8x}{16 \sin 4x}$

6. $\sin \ln x + \frac{\sin^2 10x}{5 \cos 6x}$

20. $\sqrt[3]{\text{tg} x} - \frac{\cos^2 10x}{10 \sin 2x}$

7. $\sin \sqrt{x} + \frac{\sin^2 5x}{5 \cos 10x}$

21. $\ln(\sin x) - \frac{4 \cos^2 2x}{\sin 8x}$

8. $\ln(\cos x) - \frac{\cos^2 16x}{4 \sin 4x}$

22. $\cos \frac{1}{\sqrt{x}} - \frac{\cos^2 14x}{7 \sin 7x}$

9. $\sin \frac{1}{\sqrt{x}} + \frac{\sin^2 17x}{17 \cos 34x}$

23. $\ln(\sin x) + \frac{\sin^2 15x}{5 \cos 3x}$

10. $\text{ctg} \frac{1}{\sqrt{x}} + \frac{\sin^2 19x}{19 \cos 38x}$

24. $\text{tg} \sqrt{x^3} - \frac{\cos^2 18x}{9 \sin 9x}$

11. $\text{ctg} \sqrt{x^3} + \frac{\sin^2 21x}{7 \cos 7x}$

25. $\sin \sqrt{x^3} - \frac{\cos^2 20x}{10 \sin 10x}$

12. $\sqrt[3]{\sin x} + \frac{\sin^2 23x}{23 \cos 46x}$

26. $\sqrt{\ln x} - \frac{\cos^2 22x}{11 \sin 11x}$

13. $\sqrt{\cos x} + \frac{\sin^2 25x}{10 \cos 10x}$

27. $\sqrt{\sin 2x} - \frac{\cos^2 24x}{6 \sin 6x}$

14. $\sqrt[3]{\ln x} + \frac{\sin^2 27x}{9 \cos 9x}$

28. $\sqrt{\text{tg} x} - \frac{\cos^2 26x}{2 \sin 2x}$

15. $\frac{1}{\cos x} + \frac{\sin^2 29x}{29 \cos 58x}$

29. $\frac{1}{\ln x} - \frac{\cos^2 28x}{14 \sin 14x}$

16. $\cos \ln x + \frac{\cos^2 3x}{2 \sin 6x}$

30. $\frac{1}{\sin x} - \frac{\cos^2 30x}{10 \sin 10x}$

2. Найти производную функции

1. $\text{arctg} \frac{e^x - e^{-x}}{\sqrt{2}}$

2. $\arcsin \frac{e^x - 2}{\sqrt{5} e^x}$

3. $\frac{2x-1}{4} \sqrt{2+x-x^2} + \frac{2}{3} \arcsin \frac{2x-1}{3} - 17 \cdot \operatorname{arctg} \frac{\sqrt{1-9x^2}}{1-3x}$
4. $\operatorname{arccos} \frac{x^2-4}{\sqrt{x^4+16}}$
5. $\frac{1}{4} \ln \frac{e^x-1}{e^x+1} - \frac{1}{2} \operatorname{arctg} e^x$
6. $\operatorname{arctg} \frac{\sqrt{1+e^{2x}}-1}{x}$
7. $\sqrt{\frac{2}{3}} \operatorname{arctg} \frac{3e^x-1}{\sqrt{6e^x}}$
8. $\frac{(x-1)\sqrt{8x-x^2-2}}{2} - 9 \operatorname{arccos} \sqrt{\frac{x-1}{6}}$
9. $\frac{\operatorname{arctg} 2^x}{4^x} + \frac{1}{3 \cdot 8^x}$
10. $\frac{1}{2\sqrt{x}} + \frac{1+x}{2x} \operatorname{arctg} \sqrt{x}$
11. $\frac{4+x^4}{x^3} \operatorname{arctg} \frac{x^2}{2} + \frac{4}{x}$
12. $\frac{\sqrt{1-9x^2}}{2} - \frac{\operatorname{arccos} 3^x}{2 \cdot 9^x}$
13. $\frac{x-3}{2} \sqrt{6x-x^2-8} + \operatorname{arcsin} \sqrt{\frac{x-2}{2}}$
14. $\frac{2\sqrt{1-4^x} \operatorname{arcsin} 2^x}{4^x} + 2^{1-x}$
15. $\operatorname{arctg} 2^x + \frac{5}{6} \ln \frac{4^x+1}{4^x+4}$
16. $\sqrt{1-\ln^2 x} - \ln x \operatorname{arcsin} \sqrt{1-\ln^2 x}$
17. $\operatorname{arctg} \frac{\sqrt{1-9x^2}}{1-3x}$
18. $\frac{x}{2\sqrt{1-4x^2}} \operatorname{arcsin} 2x + \frac{1}{8} \ln(1-4x^2)$
19. $\sqrt{1+2x-x^2} \operatorname{arcsin} \frac{x\sqrt{2}}{x+1} - \sqrt{2} \ln(1+x)$
20. $\frac{x^3}{3} \operatorname{arccos} x - \frac{2+x^2}{9} \sqrt{1-x^2}$
21. $\frac{3+x}{2} \sqrt{2x-x^2} + 3 \operatorname{arccos} \sqrt{\frac{x}{2}}$
22. $\operatorname{arcsin} \sqrt{\frac{x}{x+1}} + \operatorname{arctg} \sqrt{x}$
23. $6 \operatorname{arcsin} \frac{\sqrt{x}}{2} - \frac{6+x}{2} \sqrt{4x-x^2}$
24. $\frac{(1+3^{2x}) \operatorname{arctg} 3^x - 3^x}{3^{2x}}$
25. $\frac{2x-5}{4} \sqrt{5x-4-x^2} + \frac{2}{4} \operatorname{arcsin} \sqrt{\frac{x-1}{3}}$
26. $\operatorname{arcsin} \frac{3^x-2}{(3^x-1)\sqrt{2}}$
27. $\sqrt{\ln x} + \frac{1}{2} \operatorname{arctg} \sqrt{\ln x} - \frac{3}{2} \operatorname{arctg} \frac{\sqrt{\ln x}}{2}$
28. $(2x^2+6x+5) \operatorname{arctg} \frac{x+1}{x+2} - x$
29. $(2x^2-x+\frac{1}{2}) \operatorname{arctg} \frac{x^2-1}{x\sqrt{3}} - \frac{x^3}{2\sqrt{3}} - \frac{\sqrt{3}}{2}$
30. $\operatorname{arctg} \frac{e^{1/2}-1}{2} + e^{1/2} \sqrt{e^x-1}$

3. Найти производную функции

1. $\operatorname{arcsin}^3(\ln x) \operatorname{arccos}^2 \frac{1}{\ln x}$
2. $\sqrt[3]{\operatorname{arctg} \frac{1}{x^2} \operatorname{arccos}^2 \sqrt{x}}$

3. $\operatorname{ctg}^4 8x \sqrt{\operatorname{arctg}^3 \frac{1}{3x}}$
4. $\sqrt{\operatorname{arcsin}^3(\ln x)} \cdot e^{-\operatorname{tg}^2 x}$
5. $\operatorname{arcsin}^2(4^x) \cdot 4\sqrt{\operatorname{tg} 2x}$
6. $\operatorname{tg}^5 \frac{3}{x^2} \cdot \operatorname{arctg}^3(3x^2)$
7. $\sqrt[3]{\operatorname{arcsin}^4 \frac{x}{2}} \cdot \operatorname{arccos}^3 \frac{x}{2}$
8. $\sqrt{\operatorname{arctg}^3(\ln x)} \operatorname{arctg}^5(\frac{1}{\ln x})$
9. $\operatorname{tg}^3(4^x) \ln^2(\sin 4x)$
10. $\sqrt{\ln(\operatorname{arctg} 2x)} \cdot \operatorname{arctg}^2(2x)$
11. $2^{-\operatorname{tg}^2 2x} \operatorname{arcsin}^4 \frac{1}{2x}$
12. $\operatorname{arctg}^5(\frac{1}{8x}) \sqrt{\ln^3(10x)}$
13. $\operatorname{tg}^4(2^{-x^2}) \operatorname{arcsin}^3(\frac{2}{x^2})$
14. $\sqrt[3]{\operatorname{arccos}^5(\frac{2}{x})} \cdot e^{-2 \cos 2x}$
15. $\operatorname{arcsin}^3(\ln^2 x) \cdot \sqrt{\operatorname{tg}^3 3x}$
16. $\operatorname{arccos}^4(\frac{x}{2}) \cdot \sqrt{\operatorname{arctg} 7x}$
17. $\sqrt{\operatorname{arccos}^3(2 \ln x)} \cdot e^{-\operatorname{tg}^4 4x}$
18. $\ln^5(\operatorname{arccos} 3x) \cdot \operatorname{arccos}^3 \frac{3}{\ln x}$
19. $\sqrt[3]{\ln^2(\operatorname{arcsin} x)} \cdot \operatorname{arccos}^3 \frac{3}{x}$
20. $4^{-\operatorname{arctg}^4 4x} \cdot \operatorname{arctg} \frac{4}{x^2}$
21. $\operatorname{arcsin}^6 \sqrt{\ln x} \cdot \operatorname{arccos}^2(\frac{1}{\ln x})$
22. $\sqrt[4]{\operatorname{arctg}^5 \frac{5}{x^2}} \cdot \operatorname{arctg}^2(5x^2)$
23. $3^{-\sqrt{\operatorname{tg} 3x^2}} \cdot \operatorname{arctg}^3(\frac{3}{x^3})$
24. $2^{\operatorname{tg}^3(2x)} \cdot \operatorname{arcsin}^4(\operatorname{ctg} 2x)$
25. $\operatorname{tg}^5(3 \ln x) \operatorname{arcsin}^2 \sqrt{\ln x}$
26. $2^{-\sqrt{\operatorname{tg} 2x}} \cdot \operatorname{arcsin}^3(\frac{1}{2x})$
27. $3^{\operatorname{tg}^3(3x)} \cdot \sqrt[3]{\operatorname{arccos}^2 \frac{1}{3x}}$
28. $2^{\operatorname{ctg}^4 8x} \cdot \operatorname{arcsin}^4(\frac{1}{8x})$
29. $\sqrt[5]{\ln^4(1+\operatorname{tg} 2x)} \cdot \operatorname{arctg}^2(\frac{1}{2x})$
30. $\operatorname{arcsin}^5(3 \ln^3 x) \cdot \operatorname{arccos}^4(\frac{3}{\ln x})$

4. Найти производную функции

1. $x^{2^x} \cdot 2^x$
2. $(\operatorname{arctg} 3x) \ln^3 \sqrt{x}$

3. $\frac{x^x}{x^{\ln x}}$

4. $(\operatorname{arctg} x)^{\frac{1}{2}} \ln \operatorname{arctg} 2x$

5. $(\sin \sqrt{x}) \ln \sin \sqrt{x}$

6. $(\operatorname{arctg} \sqrt{x}) e^{-\frac{1}{x}}$

7. $(\operatorname{tg} 3x) e^{\cos^2 \frac{1}{x}}$

8. $(x \cdot \sin x)^{\sin(x \cdot \sin x)}$

9. $(\cos x^3) \ln \cos x^3$

10. $(1-x^2) \operatorname{ctg}^2 3x$

11. $(\sin \frac{x}{2})^{\sin \frac{x}{2}}$

12. $x^{\frac{1}{x}} \cdot x^{\frac{1}{\ln x}}$

13. $(\sin \sqrt{x}) e^{\frac{1}{x}}$

14. $(\operatorname{tg} 2x)^{\frac{1}{2}} \ln \operatorname{tg} 2x$

15. $(\cos 2x)^{\frac{1}{2}} \ln \cos 2x$

16. $(\operatorname{arcsin} \frac{3x}{\sqrt{3}}) \sin 3x$

5. Найти производную y_x

1. $\begin{cases} x = \frac{1}{\sqrt{1+t^2}} - \ln \frac{1+\sqrt{1+t^2}}{t} \\ y = \frac{t}{\sqrt{1+t^2}} \end{cases}$

2. $\begin{cases} x = \sqrt{1-t^2} \\ y = \operatorname{tg} \sqrt{1+t} \end{cases}$

17. $(\sin \frac{1}{x}) \operatorname{arcsin} \sqrt{x}$

18. $x e^{\cos^2 \sqrt{x}}$

19. $(\sin \sqrt{2x}) e^{2x}$

20. $(\operatorname{arcsin} 2x) e^{\sqrt{2x}}$

21. $(\cos \sqrt{1-5x}) \operatorname{tg} x$

22. $(\sin 2x) \operatorname{tg} 2x$

23. $(\operatorname{arcsin} x) \sqrt{1-x^2}$

24. $x^{x^x} \cdot x^x$

25. $(\operatorname{arctg} 2x) \sin \frac{x}{2}$

26. $x^{x^x} \cdot 2^{\frac{1}{x}}$

27. $(\operatorname{arcsin} \sqrt{1-x^2}) \operatorname{ctg} x$

28. $(\cos \frac{1}{x}) \operatorname{arctg} \sqrt{x}$

29. $x e^{\operatorname{arctg} x}$

30. $x^{2x} \cdot x^{\frac{1}{x}}$

3. $\begin{cases} x = \sqrt{2t-t^2} \\ y = \frac{1}{\sqrt{(t-1)^2}} \end{cases}$

4. $\begin{cases} x = \ln(t + \sqrt{1+t^2}) \\ y = \sqrt{1+t^2} - \ln \frac{1+\sqrt{1+t^2}}{t} \end{cases}$

5. $\begin{cases} x = \ln(t + \sqrt{t^2+1}) \\ y = t \cdot \sqrt{t^2+1} \end{cases}$

6. $\begin{cases} x = \sqrt{2t-t^2} \\ y = \operatorname{arcsin}(t-1) \end{cases}$

7. $\begin{cases} x = \operatorname{ctg}(2e^t) \\ y = \ln \operatorname{tg} e^t \end{cases}$

8. $\begin{cases} x = \ln \operatorname{ctg} t \\ y = \frac{1}{\cos^2 t} \end{cases}$

9. $\begin{cases} x = \operatorname{arctg}(e^{t/2}) \\ y = \sqrt{e^t+1} \end{cases}$

10. $\begin{cases} x = \ln \sqrt{\frac{1-t}{1+t}} \\ y = \sqrt{1-t^2} \end{cases}$

11. $\begin{cases} x = \ln\left(\frac{t}{\sqrt{1-t^2}}\right) \\ y = \operatorname{arcsin} \frac{1-t^2}{1+t^2} \end{cases}$

12. $\begin{cases} x = \sqrt{1-t^2} \\ y = \frac{t}{\sqrt{1-t^2}} \end{cases}$

13. $\begin{cases} x = \operatorname{arcsin} \sqrt{1-t^2} \\ y = (\operatorname{arccos} t)^2 \end{cases}$

14. $\begin{cases} x = \frac{t}{\sqrt{1-t^2}} \\ y = \ln \frac{1+\sqrt{1-t^2}}{t} \end{cases}$

15. $\begin{cases} x = (1 + \cos^2 t)^2 \\ y = \frac{\cos t}{\sin^2 t} \end{cases}$

16. $\begin{cases} x = \ln \frac{1-t}{1+t} \\ y = \sqrt{1-t^2} \end{cases}$

17. $\begin{cases} x = \arccos\left(\frac{1}{t}\right) \\ y = \sqrt{t^2-1} + \operatorname{arcsin} \frac{1}{t} \end{cases}$

18. $\begin{cases} x = \frac{1}{\ln t} \\ y = \ln \frac{1+\sqrt{1-t^2}}{t} \end{cases}$

19. $\begin{cases} x = \operatorname{arcsin} \sqrt{t} \\ y = \sqrt{1+\sqrt{t}} \end{cases}$

20. $\begin{cases} x = (\operatorname{arcsin} t)^2 \\ y = \frac{t}{\sqrt{1-t^2}} \end{cases}$

21. $\begin{cases} x = t \cdot \sqrt{t^2+1} \\ y = \ln \frac{1+\sqrt{1+t^2}}{t} \end{cases}$

22. $\begin{cases} x = (\operatorname{arctg} t) \\ y = \ln \frac{\sqrt{1+t^2}}{t+1} \end{cases}$

23. $\begin{cases} x = \ln(1-t^2) \\ y = \operatorname{arcsin} \sqrt{1-t^2} \end{cases}$

24. $\begin{cases} x = \operatorname{arctg} \frac{t+1}{t-1} \\ y = \operatorname{arcsin} \sqrt{1-t^2} \end{cases}$

25. $\begin{cases} x = \ln \sqrt{(1-\sin t)/(1+\sin t)} \\ y = \frac{1}{2} \operatorname{tg}^2 t + \ln \cos t \end{cases}$

26. $\begin{cases} x = \sqrt{t-t^2} - \operatorname{arctg} \sqrt{\frac{1-t}{t}} \\ y = \sqrt{t} - \sqrt{1-t} \operatorname{arcsin} \sqrt{t} \end{cases}$

27.
$$\begin{cases} x = \ln t \\ y = \frac{1}{\sin^2 t} \end{cases}$$

28.
$$\begin{cases} x = \frac{t \cdot \ln t}{1-t^2} + \ln \sqrt{1-t^2} \\ y = \frac{t}{\sqrt{1-t^2}} \arcsin t + \ln \sqrt{1-t^2} \end{cases}$$

6. Найти производную второго порядка y_{xx} от функции, заданной параметрически

I.
$$\begin{cases} x = \cos 2t \\ y = 2 \sec^2 t \end{cases}$$

2.
$$\begin{cases} x = \sqrt{1-t^2} \\ y = \frac{1}{t} \end{cases}$$

3.
$$\begin{cases} x = e^t \cos t \\ y = e^t \sin t \end{cases}$$

4.
$$\begin{cases} x = \operatorname{sh}^2 t \\ y = 1/\operatorname{ch}^2 t \end{cases}$$

5.
$$\begin{cases} x = t + \sin t \\ y = 2 - \cos t \end{cases}$$

6.
$$\begin{cases} x = \frac{1}{t} \\ y = \frac{1}{1+t^2} \end{cases}$$

7.
$$\begin{cases} x = \sqrt{t} \\ y = \frac{y}{\sqrt{1-t}} \end{cases}$$

8.
$$\begin{cases} x = \sin t \\ y = \sec t \end{cases}$$

9.
$$\begin{cases} x = t \ln t \\ y = \frac{1}{\sin 2t} \end{cases}$$

10.
$$\begin{cases} x = \sqrt{t-1} \\ y = \frac{t}{\sqrt{t-1}} \end{cases}$$

29.
$$\begin{cases} x = e^{\sec^2 t} \\ y = t \ln \cos t + t \ln t - t \end{cases}$$

30.
$$\begin{cases} x = \frac{t}{\sqrt{1-t^2}} \arcsin t + \ln \sqrt{1-t^2} \\ y = \frac{t}{\sqrt{1-t^2}} \end{cases}$$

II.
$$\begin{cases} x = \arccos \sqrt{t} \\ y = \sqrt{t-t^2} \end{cases}$$

12.
$$\begin{cases} x = \frac{\cos t}{1+2 \cos t} \\ y = \frac{\sin t}{1+2 \cos t} \end{cases}$$

13.
$$\begin{cases} x = \operatorname{sh} t \\ y = t \operatorname{th}^2 t \end{cases}$$

14.
$$\begin{cases} x = a(t - \sin t) \\ y = a(1 - \cos t) \end{cases}$$

15.
$$\begin{cases} x = \sqrt{t-1} \\ y = \frac{1}{\sqrt{t^2}} \end{cases}$$

16.
$$\begin{cases} x = \cos^2 t \\ y = t \ln t \end{cases}$$

17.
$$\begin{cases} x = \sqrt{t-3} \\ y = \ln(t-3) \end{cases}$$

18.
$$\begin{cases} x = \sin t \\ y = \ln \cos t \end{cases}$$

19.
$$\begin{cases} x = t + \sin t \\ y = 2 + \cos t \end{cases}$$

20.
$$\begin{cases} x = t - \sin t \\ y = 2 - \cos t \end{cases}$$

21.
$$\begin{cases} x = \cos t \\ y = \ln \sin t \end{cases}$$

22.
$$\begin{cases} x = \cos t + t \sin t \\ y = \sin t - t \cos t \end{cases}$$

23.
$$\begin{cases} x = \arcsin t \\ y = \ln(1-t^2) \end{cases}$$

24.
$$\begin{cases} x = \cos t \\ y = \sin^4\left(\frac{t}{2}\right) \end{cases}$$

25.
$$\begin{cases} x = \arctg t \\ y = \ln(t+t^2) \end{cases}$$

7. Найти производную y'_x функции $y(x)$, заданной неявно

I. $x - y + \arctg y = 0$

2. $\frac{y}{x} = \arctg \frac{x}{y}$

3. $xy^2 = e^{\frac{x}{y}}$

4. $x - y + a \sin y = 0$

5. $x - y + e^y \arctg x = 0$

6. $e^{xy} - x^2 + y^2 = 0$

7. $\cos(x-y) - 2x + 4y = 0$

8. $\cos(xy) = \frac{y}{x}$

9. $e^{x+y} = \sin \frac{y}{x}$

10. $y \ln x - x \ln y = x + y$

11. $x \sin y + y \sin x = 0$

12. $2^x + 2^y = 2^{x+y}$

13. $xy = \arctg \frac{x}{y}$

26.
$$\begin{cases} x = \arctg t \\ y = \frac{t^2}{2} \end{cases}$$

27.
$$\begin{cases} x = 2(t - \sin t) \\ y = 4(2 + \cos t) \end{cases}$$

28.
$$\begin{cases} x = \sin t - t \cos t \\ y = \cos t + t \sin t \end{cases}$$

29.
$$\begin{cases} x = \ln t \\ y = \arctg t \end{cases}$$

30.
$$\begin{cases} x = \cos t + \sin t \\ y = \sin 2t \end{cases}$$

14. $e^x \sin y - e^y \cos x = 0$

15. $\sqrt{x^2 + y^2} = a e^{\arctg \frac{x}{y}}$

16. $y \sin x = \cos(x-y)$

17. $e^{x-y} = x \cdot y$

18. $x^3 + y^3 - 3axy = 0$

19. $\ln y = \arctg \frac{x}{y}$

20. $x \sin y - y \cos x = 0$

21. $y \sin x + \cos(x-y) = \cos y$

22. $x e^y + y e^x = xy$

23. $xy + \ln y - 2 \ln x = 0$

24. $\arctg \frac{x}{y} = \ln(x^2 + y^2)$

25. $x^y = y^x$

26. $e^x + e^y - 2^{xy} = 1$

27. $\operatorname{arctg} \frac{y}{x} = \ln \sqrt{x^2 + y^2}$

29. $\sqrt[3]{y} = \sqrt{x}$

28. $e^{xy} = x + y$

30. $y \sin x - \cos(x - y) = 0$

8. Найти производную второго порядка от функции $y(x)$, заданной неявно

I. $e^{x+y} = xy$

16. $\ln(y - x) = x - y$

2. $y = 1 + xe^y$

17. $\sqrt{x^2 + y^2} = e^{\operatorname{arctg} \frac{y}{x}}$

3. $xy - \ln y = 1$

18. $e^{x-y} = x \cdot y$

4. $e^{x+y} = x$

19. $\operatorname{arctg} \frac{y}{x} = \ln \sqrt{x^2 + y^2}$

5. $y = \cos(x + y)$

20. $xy = \ln y$

6. $y = \operatorname{tg}(x + y)$

21. $x^3 + y^3 - 3xy = 0$

7. $x^2 y = e^y$

22. $xy = e^y$

8. $e^y + xy = e$

23. $x - y + \operatorname{arctg} y = 0$

9. $\cos(x + y) + x = 0$

24. $ye^x + e^y = 0$

10. $\ln(x + y) = x - y$

25. $\ln(x \cdot y) = x + y$

11. $\operatorname{arctg}(x + y) - y = 0$

26. $x - y = e^{x+y}$

12. $y = c + \ln y$

27. $\operatorname{arctg} y = x + y$

13. $x + y = e^{x-y}$

28. $x + y = e^{x+y}$

14. $\ln(x + y) = y + a$

29. $\operatorname{arctg} \frac{x}{y} = \ln(x^2 + y^2)$

15. $e^x - e^y = y - x$

30. $e^{x-y} = y$

9. Найти дифференциал функции $y(x)$

I. $x \arcsin \frac{1}{x} + \ln(x + \sqrt{x^2 - 1})$

7. $x\sqrt{4-x^2} + \operatorname{arcsin} \frac{x}{2}$

2. $\sqrt{1+2x} - \ln(x + \sqrt{1+2x})$

8. $\ln \frac{x + \sqrt{x^2 + 1}}{2x}$

3. $\arccos \frac{1}{\sqrt{1+x^2}}$

9. $e^{\operatorname{arctg} \sqrt{1 + \ln(2x+3)}}$

4. $x\sqrt{1-x^2} + \operatorname{arctg} \frac{x}{\sqrt{1-x^2}}$

10. $x \operatorname{arctg} x - \ln \sqrt{1+x^2}$

5. $\ln(\cos^2 x + \sqrt{1 + \cos^4 x})$

11. $\ln(2x + 2\sqrt{x^2 + x} + 1), x > 0$

6. $\arcsin \frac{a}{x} + \ln \sqrt{x^2 + a^2}$

12. $x \ln(x + \sqrt{x^2 + a^2}) - \sqrt{x^2 + a^2}$

13. $x^2 \operatorname{arctg} \sqrt{x^2 - 1} - \sqrt{x^2 - 1}$

22. $e^{-\cos^2(1 - \frac{1}{x})^3}$

14. $x \ln(x + \sqrt{x^2 + 3}) - \sqrt{x^2 + 3}$

23. $x \arccos x - \sqrt{1 - x^2}$

15. $\arccos \frac{x^2 - 1}{x^2 + \sqrt{2}}$

24. $x(\sin \ln x - \cos \ln x)$

16. $\ln(x + \sqrt{1 + x^2}) - \sqrt{1 - x^2} \operatorname{arctg} x$

25. $\cos x \ln \operatorname{tg} x - \ln \operatorname{tg} \frac{x}{2}$

17. $\ln(e^x + \sqrt{e^{2x} - 1}) + \arcsin e^{-x}$

26. $\sqrt{x} - (1+x) \operatorname{arctg} \sqrt{x}$

18. $\ln \operatorname{tg} \frac{x}{2} - \frac{x}{\sin x}$

27. $e^x(\cos 2x + 2 \sin 2x)$

19. $\operatorname{arctg} \sqrt{\frac{x}{1-x}} - \ln(1 + x\sqrt{1-x^2})$

28. $e^x \operatorname{arctg} e^x - \ln \sqrt{1 + e^{2x}}$

20. $\operatorname{arctg} \frac{x^2 - 1}{x}$

29. $\sqrt{3+x^2} - x \ln(x + \sqrt{3+x^2})$

21. $\operatorname{arctg} \frac{x}{\sqrt{1-x^2}}$

30. $\operatorname{arctg} \frac{x}{\sqrt{1-x^2}} + \arccos x$

10. Для заданной функции $y(x)$ и заданного числа \bar{x} вычислить приближенно $y(\bar{x})$ с помощью дифференциала первого порядка

I. $\sqrt[3]{x}$; 27,54

13. $\sqrt[3]{3x + \cos x}$; 0,01

2. $\sqrt[3]{x}$; 7,76

14. x^5 ; 2,997

3. $\frac{1}{2}(x + \sqrt{5-x^2})$; 0,98

15. $\frac{1}{\sqrt{2x+1}}$; 1,58

4. $\sqrt[3]{x^2 + 2x + 5}$; 0,97

16. $\sqrt[3]{x}$; 15,68

5. $\operatorname{arctg} x$; 0,98

17. $\sqrt[3]{x^3 + 7x}$; 1,012

6. $\sqrt[3]{x}$; 28,46

18. $\arcsin x$; 0,08

7. x'' ; 1,021

19. $\sqrt[3]{x}$; 7,64

8. $\sqrt[3]{x^2}$; 1,03

20. $\sqrt{x^2 + x + 3}$; 1,97

9. x^6 ; 2,01

21. $\operatorname{arctg} x$; 1,05

10. x^7 ; 1,996

22. $\sqrt[3]{x}$; 1,21

11. $\frac{1}{\sqrt{2x^2 + x + 1}}$; 1,016

23. x^{21} ; 0,998

12. $\frac{1}{\sqrt{x}}$; 4,16

24. $\sqrt[3]{x}$; 8,24

25. $\sqrt{4x-1}$; 2,56

28. $\sqrt{x^3}$; 0,98

26. $\sqrt{1+x+\sin x}$; 0,01

29. $\sqrt[3]{2x-\sin \frac{x}{2}}$; 1,02

27. x^2 ; 2,002

30. $\sqrt{x^2+5}$; 1,94

II. Составить уравнение нормали и касательной к графику за данной функции в заданной точке

1. $(4x-x^2)/4$; 2

16. $2x^2+3x-1$; -2

2. $x-x^3$; -1

17. $x^2+8\sqrt{x}-32$; 4

3. $x+\sqrt{x^3}$; 1

18. $\sqrt[3]{x^3-20}$; -8

4. $\frac{1+\sqrt{x}}{1-\sqrt{x}}$; 4

19. $8\sqrt[4]{x}-70$; 16

5. $2x^2-3x+1$; 1

20. $\frac{x^2-3x+6}{x^2}$; 3

6. $\sqrt{x}-3\sqrt[3]{x}$; 64

21. $\frac{x^3+2}{x^3-2}$; 2

7. $2x^2+3$; -1

22. $\frac{x^{20}+6}{x^4+1}$; 1

8. x^2-4x ; 1

23. $2x+\frac{1}{x}$; 1

9. $\frac{x^5-1}{x^4+1}$; 1

24. $\frac{x^{16}+9}{1-5x^2}$; 1

10. $3(\sqrt[3]{x}-2\sqrt{x})$; 1

25. $\frac{1}{5x+2}$; 2

11. $\frac{x}{x^2+1}$; -2

26. $\frac{1}{3}(x^2-3x+3)$; 3

12. $\frac{2x}{x^2+1}$; 1

27. $-2(\sqrt[3]{x}+3\sqrt{x})$; 1

13. $\frac{1+3x^2}{2+x^2}$; 1

28. $14\sqrt{x}-15\sqrt[3]{x}+2$; 1

14. $3\sqrt[3]{x^3}-\sqrt{x^7}$; 1

29. $\frac{1}{3}(3x-2x^3)$; 1

15. $\frac{x^2}{10}+3$; 2

30. $\frac{1}{4}(x^2-2x-3)$; 4

12. Применяя правило Лопиталя, найти предел функции

1. $\lim_{x \rightarrow \frac{\pi}{2}} \frac{2^{\cos^2 x} - 1}{\ln \sin x}$

4. $\lim_{x \rightarrow \frac{\pi}{6}} \frac{\ln \sin 3x}{(6x-\pi)^2}$

2. $\lim_{x \rightarrow 0} \frac{1+x \sin x - \cos 2x}{\sin^2 x}$

5. $\lim_{x \rightarrow 25} \frac{(x-25)^2}{\lg(\cos x - 1)}$

3. $\lim_{x \rightarrow 0} \frac{e^x - e^{-x} - 2}{\sin^2 x}$

6. $\lim_{x \rightarrow \frac{\pi}{2}} \frac{(2x-1)^2}{e^{\sin 2x} - e^{-\sin 3x}}$

7. $\lim_{x \rightarrow 0} \frac{\sqrt{1+x \sin x} - 1}{e^{2x} - 1}$

19. $\lim_{x \rightarrow 0} \frac{1 - \cos 2x + \lg^2 x}{x \sin 3x}$

8. $\lim_{x \rightarrow 0} \frac{x(e^x - e^{-x})}{e^{2x} - 1 - e}$

20. $\lim_{x \rightarrow 0} \frac{e^{3x} - 3x - 1}{\sin^2 5x}$

9. $\lim_{x \rightarrow \frac{\pi}{2}} \frac{\ln \cos 2x}{(1 - \frac{x}{\pi})^2}$

21. $\lim_{x \rightarrow 0} \frac{e^x - e^{-x} - 2x}{x - \sin x}$

10. $\lim_{x \rightarrow \frac{\pi}{2}} \frac{\ln(2 + \cos x)}{(3 \sin x - 1)^2}$

22. $\lim_{x \rightarrow 0} \frac{e^{x^2} - 1}{\cos x - 1}$

11. $\lim_{x \rightarrow \frac{\pi}{2}} \frac{\ln \cos 2x}{\ln \cos 4x}$

23. $\lim_{x \rightarrow \frac{\pi}{2}} \frac{\cos 3x - \cos x}{\lg^2 2x}$

12. $\lim_{x \rightarrow \frac{\pi}{2}} \frac{\ln \sin x}{(2x - \pi)^2}$

24. $\lim_{x \rightarrow 0} \frac{x - \arctg x}{x^3}$

13. $\lim_{x \rightarrow 0} \frac{1 - \cos x \sqrt{\cos 2x}}{x^2}$

25. $\lim_{x \rightarrow 0} \frac{\sin 2x - 2 \sin x}{x \ln \cos 5x}$

14. $\lim_{x \rightarrow 0} \frac{1 - \sqrt{\cos x}}{x \sin x}$

26. $\lim_{x \rightarrow 0} \frac{\sqrt{\cos x} - 1}{\sin^2 2x}$

15. $\lim_{x \rightarrow 0} \frac{1 - \cos x}{(e^{3x} - 1)^2}$

27. $\lim_{x \rightarrow 0} \frac{e^x + e^{-x} - 2}{1 - \cos 2x}$

16. $\lim_{x \rightarrow 0} \frac{\lg x - \sin x}{x(1 - \cos 2x)}$

28. $\lim_{x \rightarrow 0} \frac{x(1 - \cos \sqrt{x})}{1 - \cos x}$

17. $\lim_{x \rightarrow 0} \frac{\ln(x^2 + 1)}{1 - \sqrt{x^2 + 1}}$

29. $\lim_{x \rightarrow \frac{\pi}{2}} \frac{\cos 5x - \cos 3x}{\sin^2 x}$

18. $\lim_{x \rightarrow 0} \frac{2x \sin x}{1 - \cos x}$

30. $\lim_{x \rightarrow 0} \frac{1 - \cos^3 x}{x \sin 2x}$

13. Провести полное исследование функций и построить графики

1. $\frac{3x^2 - 6x}{x-1}$; xe^{x+1}
2. $x^2 \ln x$; $\frac{(x-1)(x-2)}{x}$
3. $\frac{1}{(x-1)^2} - \frac{1}{(x+1)^2}$; $x \ln x$
4. $\frac{1}{\sqrt{x^2-1}}$; $\sqrt[3]{12x-4x^3}$
5. e^{x^2-6x} ; $\frac{4x-8}{(x-1)^2}$
6. $\sqrt[3]{1-x^3}$; $\sqrt{\frac{x-1}{x+1}}$
7. $\frac{x^2}{x^2+3}$; $\arctg x - x$
8. $-\frac{x^3}{(x+1)^2}$; $(x-1)e^{x-1}$
9. $\frac{x^2}{x^2-4}$; $\frac{4x}{4+x^2}$
10. $\frac{x}{x^2+1}$; $\frac{(x+1)(2-x)}{2x-3}$
11. $\frac{x^3}{x^2+3}$; $\frac{1}{x^2-6x+5}$
12. $\frac{x^2+2}{(x+2)^2}$; $2^{\frac{1}{x}}$
13. $\frac{1}{x\sqrt{1-x^2}}$; $\sqrt{4x^2+7}$
14. $x+2\arctg x$; $(x-1)e^{1-x}$
15. $\frac{x^{2e}-1}{(x-2)^2}$; $(x-3)\sqrt{x}$
16. $\frac{x+\sqrt{2}}{x^2-1}$; $\sqrt[3]{(x^2-1)^2}$
17. $\frac{x}{x^2-1}$; $(1+x^2)e^{-x^2}$
18. $\sqrt[3]{\frac{x-1}{x+1}}$; $(13+4x^2)e^{-x^2}$
19. $\frac{e^{-x^2}}{x^2}$; $\frac{x-1}{(2x-1)(2-x)}$
20. $\sqrt[3]{6x^2-x^3}$; $\frac{2x-2x^2}{(x-2)^2}$
21. $\frac{x^3}{x^2-3}$; $x - \ln(x+1)$
22. $(x-1)^2 e^x$; $\sqrt[3]{4x^3-12x}$
23. $\frac{x}{\sqrt{x^2-1}}$; $x^2 e^x$
24. $\frac{x}{\sqrt{x^2-1}}$; $\frac{18x-3x^2}{(x-3)^2}$
25. $\frac{16}{x^2(x-4)}$; $\frac{x}{\ln x}$
26. $\frac{x^3}{(1-x^2)}$; xe^{-x}
27. $\frac{2x-1}{x^2}$; $\sqrt[3]{x^3+1} + \sqrt[3]{x^3-1}$
28. $\frac{1x-11}{x}$; $\frac{1}{1+x^2}$
29. x^3-3x ; $\frac{(2x+1)x}{(x+3)(1-x)}$
30. $\sqrt[3]{(x-1)^2} - \sqrt[3]{(x+1)^2}$; $(3x+5)e^{-3x-1}$

РАЗДЕЛ 4. ДИФФЕРЕНЦИАЛЬНОЕ ИСЧИСЛЕНИЕ
ФУНКЦИЙ МНОГИХ ПЕРЕМЕННЫХ

Задача I. Исследовать на экстремум функцию $z = x^3 + y^3 - 3xy$.

Решение. Найдем частные производные I-го порядка и воспользуемся необходимым условием экстремума

$$\begin{cases} \frac{\partial z}{\partial x} = 3x^2 - 3y = 0 \\ \frac{\partial z}{\partial y} = 3y^2 - 3x = 0 \end{cases} \Leftrightarrow \begin{cases} x^2 - y = 0 \\ y^2 - x = 0 \end{cases}$$

Решая эту систему, получим две стационарные точки: $P_1(0,0)$ и $P_2(1,1)$. Найдем частные производные 2-го порядка:

$$A = \frac{\partial^2 z}{\partial x^2} = 6x, \quad B = \frac{\partial^2 z}{\partial x \partial y} = -3, \quad C = \frac{\partial^2 z}{\partial y^2} = 6y.$$

Затем вычислим дискриминант $D = AC - B^2 = 36xy - 9$ для каждой стационарной точки:

$$D/P_1 = 36 \cdot 0 \cdot 0 - 9 = -9 < 0;$$

$$D/P_2 = 36 \cdot 1 \cdot 1 - 9 = 27 > 0; \quad A/P_2 = 6 > 0.$$

Следовательно, в силу достаточного условия экстремума в точке P_1 экстремума нет, а в точке P_2 локальный минимум.

Ответ: $(1,1)$ - точка локального минимума.

Точка $P(x_0, y_0)$ называется условным максимумом (минимумом) функции $z = f(x, y)$ с условием связи $\varphi(x, y) = 0$, если существует окрестность U точки P такая, что $f(x_1, y_1) \leq f(x_0, y_0)$ ($f(x_1, y_1) \geq f(x_0, y_0)$) как только $\begin{cases} (x_1, y_1) \in U \\ \varphi(x_1, y_1) = 0 \end{cases}$.

Задача о вычислении условного экстремума сводится к исследованию на обычный экстремум функции Лагранжа $L(x, y, \lambda) = f(x, y) + \lambda \varphi(x, y)$. Итак, система трех уравнений $\frac{\partial L}{\partial x} = 0, \frac{\partial L}{\partial y} = 0, \frac{\partial L}{\partial \lambda} = 0$ выражает необходимое условие условного экстремума. Пусть

(x_0, y_0, λ_0) - решение этой системы, а

$$\Delta = - \begin{vmatrix} 0 & \varphi'_x(P) & \varphi'_y(P) \\ \varphi'_x(P) & L''_{xx}(P, \lambda_0) & L''_{xy}(P, \lambda_0) \\ \varphi'_y(P) & L''_{xy}(P, \lambda_0) & L''_{yy}(P, \lambda_0) \end{vmatrix}$$

Если $\Delta < 0$, то $P(x_0, y_0)$ - условный максимум; в случае $\Delta > 0$ $P(x_0, y_0)$ - условный минимум.

Задача 2. Найти условный экстремум функции $z = x + 2y$ при $x^2 + y^2 = 5$

Решение. Составим функцию Лагранжа $L(x, y, \lambda) = x + 2y + \lambda(x^2 + y^2 - 5)$ и воспользуемся необходимым условием условного экстремума:

$$\begin{cases} \frac{\partial L}{\partial x} = 1 + 2\lambda x = 0 \\ \frac{\partial L}{\partial y} = 2 + 2\lambda y = 0 \\ \frac{\partial L}{\partial \lambda} = x^2 + y^2 - 5 = 0 \end{cases} \Leftrightarrow \begin{cases} x = -\frac{1}{2}\lambda \\ y = -\frac{1}{\lambda} \\ x^2 + y^2 = 5 \end{cases}$$

Решая эту систему, получим две точки: $x_1 = -1, y_1 = -2, \lambda_1 = 1/2$; $x_2 = 1, y_2 = 2, \lambda_2 = -1/2$. Так как

$$\frac{\partial^2 L}{\partial x^2} = 2\lambda, \frac{\partial^2 L}{\partial x \partial y} = 0, \frac{\partial^2 L}{\partial y^2} = 2\lambda, \varphi'_x = 2x, \varphi'_y = 2y;$$

то

$$\Delta = - \begin{vmatrix} 0 & 2x & 2y \\ 2x & 2\lambda & 0 \\ 2y & 0 & 2\lambda \end{vmatrix} = -8(-x^2\lambda - y^2\lambda) = 8\lambda(x^2 + y^2).$$

Имеем: $\Delta(x_1, y_1, \lambda_1) = 8 \cdot \frac{1}{2} \cdot (1+4) = 20 > 0$ и $\Delta(x_2, y_2, \lambda_2) = 8 \cdot (-\frac{1}{2}) \cdot (1+4) = -20 < 0$. Следовательно, $P_1(-1, -2)$ - точка условного минимума, а $P_2(1, 2)$ - точка условного максимума.

Ответ: $(-1, -2)$ - точка условного минимума, $(1, 2)$ - точка условного максимума.

Задача 3. Найти наибольшее и наименьшее значения функции $z = x^2 y (4 - x - y)$ в треугольнике, ограниченном прямыми $x + y = 6, x = 0, y = 0$.

Решение. Во-первых, отметим, что z - непрерывная функция, а ΔOAB (см. рисунок) - ограниченная замкнутая область.

Следовательно, по теореме Вейерштрасса существуют наибольшее и наименьшее значения функции z в ΔOAB . Точка, в которой достигается наибольшее (наименьшее) значение, является либо стационарной точкой функции z , лежащей внутри ΔOAB , либо стационарной точкой сужения функции z на одну из сторон ΔOAB , либо, наконец, совпадает с одной из вершин O, A, B .

Найдем стационарные точки внутри ΔOAB :

$$\begin{cases} \frac{\partial z}{\partial x} = 2xy - 3x^2y - 2xy^2 = 0 \\ \frac{\partial z}{\partial y} = 4x^2 - x^3 - 2x^2y = 0 \end{cases} \Leftrightarrow \begin{cases} 8 - 3x - 2y = 0 \\ 4 - x - 2y = 0 \end{cases} \Leftrightarrow \begin{cases} x = 2 \\ y = 1 \end{cases}$$

Ввиду того, что $x > 0$ и $y > 0$ внутри ΔOAB , мы смогли сократить на x и y . Точка $P_1(1, 2)$ действительно лежит внутри ΔOAB и $z(1, 2) = 4$.

Далее, сужая функцию z на стороны OA и OB , находим, что $z_{OA} = z_{OB} = 0$. На стороне AB зависимость от x такова: $y = 6 - x$; поэтому

$$z_{AB} = x^2(6-x)(4-x-6+x) = -12x^2 + 2x^3.$$

Находим стационарные точки этой функции в интервале $(0, 6)$:

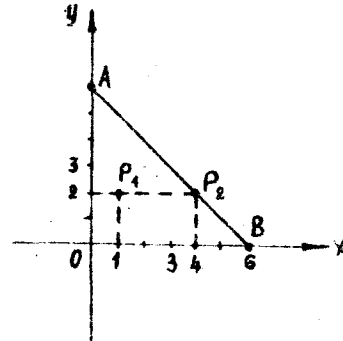
$$(-12x^2 + 2x^3)' = 0 \Leftrightarrow -24x + 6x^2 = 0 \Leftrightarrow x_1 = 0, x_2 = 4.$$

Из этих двух точек интервалу $(0, 6)$ принадлежит только вторая, для которой $y_2 = 6 - 4 = 2$ и $z(x_2, y_2) = 4^2 \cdot 2 \cdot (4 - 4 - 2) = -64$.

Наибольшее значение функции z в ΔOAB совпадает с наибольшим значением в точках P_1, P_2, O, A, B , а также значением 0 в любой из внутренних точек сторон OA и OB . Последнее наибольшее значение не составляет труда вычислить: $z_{max} = 4$, так как $z(0) = z(A) = z(B) = 0$ и $0 < 4$; $-64 < 4$. Аналогично, $z_{min} = -64$.

Ответ: $z_{max} = z(1, 2) = 4$; $z_{min} = z(4, 2) = -64$.

Заметим, что при решении 3-й задачи мы не пользовались достаточным условием экстремума.



ЗАДАНИЯ

I. Найти дифференциал второго порядка

- | | |
|-------------------------|-------------------------------------|
| 1. $z = e^{xy}$ | 4. $z = x \cos y + y \sin x$ |
| 2. $z = e^{x^2} \cos y$ | 5. $z = x^2 + 2y^2 - 2xy + 4x + 2y$ |
| 3. $z = \frac{x}{y}$ | 6. $z = \arctg xy$ |

- | | |
|--|--|
| 7. $Z = x^y$ | 19. $Z = \operatorname{ctg}(x^2 - y^2)$ |
| 8. $Z = \ln xy$ | 20. $Z = \operatorname{arccos} y^2$ |
| 9. $Z = \operatorname{arcsin} xy$ | 21. $Z = \operatorname{arccos} x^2$ |
| 10. $Z = \operatorname{arccos} xy$ | 22. $Z = yx^y$ |
| 11. $Z = \ln(x^2 + y^2)$ | 23. $Z = xy^x$ |
| 12. $Z = \sin xy^2$ | 24. $Z = \frac{x}{x^2 + y^2}$ |
| 13. $Z = \cos x^2 y$ | 25. $Z = \frac{x^2 y}{x^2 + y^2}$ |
| 14. $Z = \operatorname{tg} xy$ | 26. $Z = \frac{x+y}{x-y}$ |
| 15. $Z = e^x \sin x$ | 27. $Z = \frac{x-y}{x+y}$ |
| 16. $Z = e^x \sin y$ | 28. $Z = \sin \frac{xy}{x+y}$ |
| 17. $Z = \frac{x}{y^2}$ | 29. $Z = \cos \frac{xy}{x+y}$ |
| 18. $Z = \operatorname{tg}(x^2 + y^2)$ | 30. $Z = 5x^3 + 4y^3 + 5x^2 y - 7xy^2 - 2xy$ |

2. Исследовать на экстремум функции двух переменных

- | | |
|-------------------------------------|---|
| 1. $(2x+1)^2 + y^2$ | 16. $e^{x-y}(x^2 - y^2)$ |
| 2. $x^2 + xy + y^2 - 2x - y$ | 17. $3x^2 - 2xy + y^2 + x - y$ |
| 3. $e^{x-y}(x^2 + xy)$ | 18. $x^2 + y^2 - 2x + y$ |
| 4. $2x^2 - 2xy + y^2 - x + 1$ | 19. $-x^2 + xy - y^2 + y + 2$ |
| 5. $3x^2 + 2xy + x - y$ | 20. $x^2 y^2 (a - x - y)$ |
| 6. $3x^2 y - 2xy^2 - x$ | 21. $x^2 + xy + y^2 + \frac{1}{x} + \frac{1}{y}$ |
| 7. $-2x^2 - xy - 2x + 3y$ | 22. $4x^2 - 2y^2 + 3xy + 2x - y$ |
| 8. $-x^2 + xy - y^2 + x - 2y$ | 23. $-2x^2 + 3xy - y^2 - y + 2$ |
| 9. $(1-2x)^2 - y^2 + y - 2x$ | 24. $xy + \frac{50}{x} + \frac{20}{y} \quad (x > 0, y > 0)$ |
| 10. $2x^2 - 3xy - y^2 + 5x - 4y$ | 25. $x^2 - (3y+2)^2 - x - y$ |
| 11. $(x+2)^2 + (2y-1)^2 - x$ | 26. $(3x-1)^2 - y^2 + 2x + y$ |
| 12. $3x^2 - 3xy + 6y^2 - x$ | 27. $-x^2 + 4xy - 2y^2 + y$ |
| 13. $4x^2 + 2xy - 4y^2 + 16x - 16y$ | 28. $-3x^2 - 6xy - 12y^2 - 6x + 6y$ |
| 14. $-2x^2 + 8xy + 8y^2 + 8x + 16y$ | 29. $5x^2 - 10xy + 5y^2 + 10x - 10y$ |
| 15. $-x^2 - xy + 2y^2 + 6x - 9y$ | 30. $-6x^2 + 12xy - 6y^2 - 6x + 6y$ |

3. Определить наибольшее и наименьшее значения функции двух переменных в указанных областях

- | | |
|----------------------------------|--------------------------------------|
| 1. $Z = 1 + x + 2y$; | $x \geq 0, y \geq 0, x + y \leq 1$ |
| 2. $Z = 1 - x + 3y$; | $x \geq 0, y \geq 0, x + y \leq 1$ |
| 3. $Z = 2 + 2x - y$; | $0 \leq x \leq 2 ; -1 \leq y \leq 2$ |
| 4. $Z = 3 - x + y$; | $-1 \leq x \leq 2 ; 0 \leq y \leq 2$ |
| 5. $Z = \frac{1}{2} + 2x - 3y$; | $x \geq 0, y \leq 0, x - y \leq 1$ |
| 6. $Z = 1 - x + 2y$; | $0 \leq x \leq 3, -2 \leq y \leq 2$ |
| 7. $Z = 5 + 3x - 2y$; | $x \leq 0, y \geq 0, -x + y \leq 1$ |
| 8. $Z = -2 + 2x - 3y$; | $x \leq 0, y \leq 0, -x - y \leq 2$ |
| 9. $Z = -1 + x - 2y$; | $x \geq 0, y \leq 0, xy \leq 2$ |
| 10. $Z = xy$; | $0 \leq x \leq 1 ; 0 \leq y \leq 1$ |
| 11. $Z = 2 - xy$; | $x \leq 0, y \geq 0, -x + y \leq 3$ |
| 12. $Z = 5 - x - y$; | $-1 \leq x \leq 2, 0 \leq y \leq 1$ |
| 13. $Z = 1 + xy$; | $0 \leq x, y \geq 0, x + y \leq 3$ |
| 14. $Z = 1 - 2xy$; | $-2 \leq x \leq 2, 0 \leq y \leq 2$ |
| 15. $Z = -3 + 2x - y$; | $x \leq 0, y \geq 0, -x + y \leq 1$ |
| 16. $Z = 2 - x + 3y$; | $x \geq 0, y \leq 0, x - y \leq 5$ |
| 17. $Z = (x-1)^2 + y$; | $x \geq 0, y \geq 0, x + y \leq 2$ |
| 18. $Z = x - (y+2)^2$; | $0 \leq x \leq 1 ; 0 \leq y \leq 3$ |
| 19. $Z = 2x + 3y - 1$; | $x \geq 0, y \leq 0, x - y \leq 2$ |
| 20. $Z = 3x - 2y + 1$; | $x \leq 0, y \leq 0, -x - y \leq 2$ |
| 21. $Z = 4x + 2y - 5$; | $x \leq 0, y \geq 0, -x + y \leq 5$ |
| 22. $Z = x + (2y-3)^2$; | $-1 \leq x \leq 3, 0 \leq y \leq 1$ |
| 23. $Z = 4x - 5y + 2$; | $x \geq 0, y \geq 0, x + y \leq 3$ |
| 24. $Z = -x - y - 6$; | $0 \leq x \leq 3, -1 \leq y \leq 1$ |
| 25. $Z = -2x + 4y - 1$; | $0 \geq x, y \leq 0, -x - y \leq 4$ |
| 26. $Z = xy + x$; | $0 \leq x \leq 1, 0 \leq y \leq 1$ |
| 27. $Z = xy + y$; | $0 \leq x \leq 1, -1 \leq y \leq 0$ |

- 28. $Z = xy - 2x$; $-1 \leq x \leq 0, 0 \leq y \leq 1$
- 29. $Z = 2xy - y$; $-3 \leq x \leq 0, -1 \leq y \leq 3$
- 30. $Z = 2xy + x + y$; $x \leq 0, y \geq 0, -x + y \leq 10$

4. Определить условные экстремумы функции двух переменных

- 1. $Z = xy$ при условии $x + y = 2$
- 2. $Z = x + 3y$ при условии $x^2 + y^2 = 1$
- 3. $Z = x^2 + y^2$ при условии $x + y = 1$
- 4. $Z = 2x - y + 1$ при условии $x^2 - y = 1$
- 5. $Z = x^2 - y^2$ при условии $-x + y = 2$
- 6. $Z = -x^2 + y^2$ при условии $\frac{x}{2} + \frac{y}{3} = 1$
- 7. $Z = x^2 - y^2 + 2y$ при условии $-x + y = 2$
- 8. $Z = -x^2 + y^2 + 3x$ при условии $x - 2y = 1$
- 9. $Z = x - 3y + 2$ при условии $x^2 + y^2 = 3$
- 10. $Z = xy + x + y$ при условии $x + y = 1$
- 11. $Z = xy - x + 2y$ при условии $x - y = 2$
- 12. $Z = x^2 - y^2 + 2x - y$ при условии $-x + y = 1$
- 13. $Z = -x^2 + y^2 - x + y$ при условии $2x + y = 2$
- 14. $Z = 2x^2 - y^2 + x$ при условии $2x - 2y = 1$
- 15. $Z = 2x - 2y + 3$ при условии $x^2 + 2y^2 = 1$
- 16. $Z = 3x + 2y + 1$ при условии $x^2 - y^2 = 2$
- 17. $Z = -x + 3y + 2$ при условии $2x^2 + 3y^2 = 1$
- 18. $Z = 2xy + 3x - y$ при условии $2x - 3y = 2$
- 19. $Z = xy - 3x + 2y + 1$ при условии $-x + 2y = 2$
- 20. $Z = -2xy + 2x - 3y - 1$ при условии $2x - 3y = 3$
- 21. $Z = 3x^2 + 2y^2 - x - y$ при условии $x + y = 3$
- 22. $Z = -4x^2 + 4y^2 + 2y$ при условии $x - y = 2$
- 23. $Z = 4x^2 - 4y^2 - 2x$ при условии $-x - 2y = 2$
- 24. $Z = 5x - 3y + 2$ при условии $x^2 + y^2 = 1$
- 25. $Z = -2x + 4y + 1$ при условии $x^2 + y^2 = 2$

- 26. $Z = x + 4y + 8$ при условии $2x^2 + 3y^2 = 3$
- 27. $Z = 1 - 2x - 3y - xy$ при условии $x + 2y = 1$
- 28. $Z = 2 + y + 3xy$ при условии $2x - 3y = 0$
- 29. $Z = -1 - x - 2y + 3xy$ при условии $-x + 6y = 0$
- 30. $Z = x^2 - xy + y^2$ при условии $x + y = 1$

5. Найти производные сложных функций

- 1. $Z = x^2 + xy + y^2, x = t^2, y = t$
- 2. $Z = \sqrt{x^2 + y^2}, x = \sin t, y = \cos t$
- 3. $Z = \frac{y}{x}, x = e^t, y = 1 - e^{2t}$
- 4. $Z = xe^y, y = x^2$
- 5. $Z = x^3 - 3yx, y = e^x$
- 6. $Z = \frac{y}{x} - \frac{x}{y}, y = \cos x$
- 7. $Z = \frac{x^2}{y}, x = u - 2v, y = v + 2u$
- 8. $Z = \frac{y}{x^2}, x = u + 2v, y = v - 2u$
- 9. $Z = 2y + x^2, x = 2u - v, y = 3v + u$
- 10. $Z = 3x^3 - 2xy + 3, x = 3t - 1, y = 2t^2 + t$
- 11. $Z = \arctg \frac{x}{y}, x = t, y = t^2$
- 12. $Z = \arcsin(xy), x = 2t, y = 3t - 1$
- 13. $Z = \frac{x+y}{x-y}, y = e^{2x}$
- 14. $Z = x^2 - 4y^2, y = \ln x$
- 15. $Z = \frac{xy+1}{x}, y = 3x^2 + 2x - 1$
- 16. $Z = \frac{2y+3}{x}, y = \frac{1}{x}$
- 17. $Z = x^2 - y, x = 3u - 4v, y = 2u^2$
- 18. $Z = xy, x = \frac{y}{x}, y = u - v$
- 19. $Z = \sqrt{x+y}, x = u^2 + v, y = 2u + 3v$
- 20. $Z = \frac{xy}{x^2+y}, x = uv, y = u - v$
- 21. $Z = e^{xy}, x = t, y = 2t$
- 22. $Z = \arcsin \frac{x}{y}, x = t + 1, y = t^2$
- 23. $Z = xe^y, x = 5t^2 - t, y = 6t$

24. $z = \frac{x-y}{x+y}$, $x = \cos t$, $y = \sin t$
 25. $z = e^{\frac{x}{y}}$, $x = 3t+1$, $y = 2t-1$
 26. $z = \ln \sin(x-y)$, $y = x^3$
 27. $z = \frac{x}{3y-2x}$, $y = 6x+3$
 28. $z = x \ln y$, $y = x$
 29. $z = y \ln x$, $y = x^e$
 30. $z = x^y$, $x = u+v$, $y = u-v$

6. Найти производные z'_x , z'_y (либо y'_x) неявно заданных функций

1. $x^2 + y^2 - 4x + 6y = 0$
2. $x^2 + y^2 + z^2 - 6x = 0$
3. $z^2 = xy$
4. $x^2 - 4y^2 = 4$
5. $xy + \ln y + \ln x = 0$
6. $y + x = e^{y/x}$
7. $2 \cos(x-2y) = 2y - x$
8. $x^2 + y^2 + z^2 - 2zx = a^2$
9. $\cos(ax+by-cz) = ax+by-cz$
10. $xyz = a^3$
11. $x^{2/3} + y^{2/3} = a^{2/3}$
12. $2 \sin(x+2y-3z) = x+2y-3z$
13. $\operatorname{tg} xy = y$
14. $\operatorname{arctg} y = x+y$
15. $\ln(x+y) = xy$
16. $\operatorname{arcsin}(x+y) = 2x-y$
17. $3x^3 - 6xy^2 + 5x^2y - 6y = 0$
18. $z^5 = x+y+z$
19. $y^2 = \ln(x+y)$
20. $\operatorname{arccos}(x+z) = z^2 + x - y$

21. $x^4 - 2xz^2 + 3y^2 - 4xz = 0$
22. $z + xy = z^2 - x + y$
23. $z^2 - 3z + y - x = 0$
24. $\operatorname{ctg} \frac{x}{y} = \sin x$
25. $3x^2 - 6xy + y^2 - z^2 - z = 0$
26. $\frac{x+y}{x} = y^2$
27. $\frac{x+y}{x-y} = y-1$
28. $x^2 + y^2 + 2x - 2y = 2$
29. $x^3 - 7x^2y + y^2 - 2y = 0$
30. $5x^2 + 6y^2 - 3x + y = 0$

О Г Л А В Л Е Н И Е

ПРЕДИСЛОВИЕ	3
РАЗДЕЛ I. АНАЛИТИЧЕСКАЯ ГЕОМЕТРИЯ И ЛИНЕЙНАЯ АЛГЕБРА	5
РАЗДЕЛ 2. ВВЕДЕНИЕ В АНАЛИЗ	28
РАЗДЕЛ 3. ДИФФЕРЕНЦИАЛЬНОЕ ИСЧИСЛЕНИЕ ФУНКЦИИ ОДНОЙ ПЕРЕМЕННОЙ	40
РАЗДЕЛ 4. ДИФФЕРЕНЦИАЛЬНОЕ ИСЧИСЛЕНИЕ ФУНКЦИЙ МНОГИХ ПЕРЕМЕННЫХ	55